

교사용
특별부록

초등사회

선생님 자료 창고

- **꼭지 시험** 2
교과서 주제별 주요 개념을 확인할 수 있는 문제입니다. 진도 교재의 교과서 핵심 강의를 학습하기 전에 지난 시간에 배운 내용을 확인하실 때 사용하세요.
- **유형 문제** 14
시험에 자주 출제되는 유형 문제로 구성하였습니다. 시험대비 교재의 '단원평가' 풀이 후 더 많은 문제가 필요한 경우 사용하세요.
- **실전 서술형·논술형 문제** 26
출제율이 높은 서술형·논술형 문제를 집중적으로 풀어 볼 수 있는 코너입니다. 학교 시험에서 서술형·논술형 문제의 출제 비중이 높은 학생들에게 추가 문제로 사용하세요.
- **중간·기말 학력평가** 32
학력평가 예상 문제를 '중간 범위, 중간 이후 범위, 전 범위'로 구성하였습니다. 시험대비 교재의 '중간·기말 대비 단원별 학력평가' 풀이 후 더 많은 문제가 필요한 경우 사용하세요.
- **정답과 해설** 41

교사용 자료 온라인 제공

❖ 강의의 편의성을 위해 교사용 특별부록 자료를 온라인에서도 제공합니다.

① 교사용 교재에 수록한 「선생님 자료 창고 PDF」 파일

② 교사용 CD에 수록한 「단원평가/중간·기말평가」 한글 파일

교사용 자료는 비상교육 홈페이지(www.visang.com/book → 학원선생님 → 초등자료실 → 사회)에서 내려받으실 수 있습니다.

3-1

답을 쓰세요.

1 무엇이 어디에 있는지를 나타내는 것을 무엇이라고 합니까?

1

2 고장에서 학교의 은/는 고장에서 학교가 어디에 있는지를 뜻합니다.

2

3 다음 내용 중 알맞은 말에 ○표 하시오.

3

교실에서 칠판을 보고 앉았을 때 칠판이 있는 쪽을 ㉠ (앞쪽 , 뒤쪽) , 등이 향하고 있는 쪽을 ㉡ (앞쪽 , 뒤쪽) 이라고 합니다.

4 다음 내용 중 알맞은 말에 ○표 하시오.

4

(높은 곳에서 내려다보면 , 낮은 곳에서 올려다보면) 고장의 위치를 알 수 있습니다.

5 은/는 비행기에서 땅의 모습을 찍은 사진으로, 이를 통해 고장의 위치를 알 수 있습니다.

5

6 사람이 살고 있는 곳이나 건물이 자리 잡고 있는 곳을 나타낸 것을 무엇이라고 합니까?

6

7 위에서 내려다본 실제 땅의 모습을 일정하게 줄여서 나타낸 그림을 무엇이라고 합니까?

7

8 을/를 이용하면 우리 집이나 고장의 위치를 한눈에 볼 수 있고, 다른 장소나 건물도 쉽게 찾아갈 수 있습니다.

8

9 다음 내용 중 알맞은 말에 ○표 하시오.

9

우리 고장이 우리나라에서 어디에 위치하는지 살펴보려면 (좁은 , 넓은) 지역을 보여 주는 지도가 필요합니다.

10 은/는 바닷가나 섬 같은 곳에 탑 모양으로 높이 세워져 있는 시설로, 불을 켜서 밤에 다니는 배에게 뱃길과 위험한 곳을 알려 줍니다.

10

꼭지시험

1-2 지도에 쓰이는 약속

이름

점수

점

답을 쓰세요.

1 지도에서는 동서남북을 이용하여 위치를 나타내는데, 이것을 (이)라고 합니다.

1

2 다음 내용 중 알맞은 말에 ○표 하시오.

2

방위표가 없는 경우에는 지도의 위쪽이 ㉠ (북쪽 , 남쪽), 아래 쪽이 ㉡ (북쪽 , 남쪽)이 됩니다.

3 을/를 이용하면 사람이나 건물이 향한 방향과 관계없이 위치를 나타낼 수 있습니다.

3

4 나침반에서 빨간 바늘이 가리키는 쪽은 입니다.

4

5 은/는 땅의 모양이나 건물의 모습을 알기 쉽게 나타낸 것인데, 그리는 사람에 따라 모양이 조금씩 다릅니다.

5

6 지도에서는 을/를 이용하여 땅의 높낮이와 쓰임새를 표현하기도 합니다.

6

7 다음 내용 중 알맞은 말에 ○표 하시오.

7

지도에서 땅의 낮은 곳은 (초록색 , 파란색)으로 나타내고, 높아질수록 노란색, 갈색, 고동색의 순서로 나타냅니다.

8 지도에 사용하는 은/는 사람들이 약속하여 미리 정하여 놓은 것입니다.

8

9 지도에서  기호는 을/를 나타냅니다.

9

10 고장의 모습을 그림지도로 나타낼 때에는 을/를 정하고 방위표를 그리며, 산과 강, 큰길 등을 먼저 그립니다.

10

답을 쓰세요.

1 산, 들, 하천 등과 같이 사람들이 만든 것이 아닌 자연 그대로의 환경을 무엇이라고 합니까?

1

2 다음 내용 중 알맞은 말에 ○표 하시오.

2

(바다 , 기온 , 다리)은/는 사람들이 만든 환경입니다.

3 고장 사람들은 이/가 있는 곳에 공원이나 등산길을 만들어 이용하고 있습니다.

3

4 주변에는 공원을 만들어 고장 사람들이 산책하거나 운동하는 곳으로 이용하고 있습니다.

4

5 눈, 비 등 땅에 내린 물의 양을 무엇이라고 합니까?

5

6 다음 내용 중 알맞은 말에 ○표 하시오.

6

사계절이 뚜렷한 우리나라는 ㉠ (여름 , 겨울)에는 덥고 비가 많이 오며, ㉡ (여름 , 겨울)에는 춥고 눈이 내립니다.

7 선풍기와 에어컨을 많이 쓰고, 물놀이를 하러 가는 계절은 언제입니까?

7

8 두꺼운 옷을 입고 목도리를 하며, 난로나 온풍기를 쓰는 계절은 언제입니까?

8

9 다음 내용 중 알맞은 말에 ○표 하시오.

9

산이 많은 고장의 사람들은 산사태나 눈사태를 예방하기 위하여 (사방 공사 , 방파제 설치)를 합니다.

10 여름철에 비가 집중적으로 내려 하천 주변 지역에서는 (으)로 인한 피해를 입기도 합니다.

10

답을 쓰세요.

1 이/가 넓게 펼쳐져 있는 고장은 회사에서 일하는 사람이 많은 곳도 있고, 농사짓는 사람이 많은 곳도 있습니다.

1

2 이/가 있는 고장의 사람들은 주로 과수원에서 과일을 재배합니다.

2

3 이/가 펼쳐져 있는 고장의 사람들은 주로 고기를 잡거나 양식을 합니다.

3

4 산이 있는 곳에서 하는 일과 바다가 있는 곳에서 하는 일이 다른 까닭은 고장마다 이/가 다르기 때문입니다.

4

5 생활에 필요한 물건을 만들거나 사람들을 편리하게 도와주는 일 등을 무엇이라고 합니까?

5

6 다음 내용 중 알맞은 말에 ○표 하시오.

6

(조선소 , 풍력 발전소)에서는 커다란 배를 만들거나 조립하는 일을 합니다.

7 고장마다 발달한 이/가 달라서 고장 사람들이 하는 일도 서로 다릅니다.

7

8 다음 내용 중 알맞은 말에 ○표 하시오.

8

옛날에는 ㉠ (가축 , 기계)을/를 이용하여 농사를 지었지만, 오늘날에는 ㉡ (가축 , 기계)을/를 이용합니다.

9 다음 내용 중 알맞은 말에 ○표 하시오.

9

오늘날에는 (지게 , 트럭)을/를 이용하여 물건을 운반하는 일을 합니다.

10 어업과 조선업이 발달한 고장이 대게로 유명해지면서 다른 고장 사람이 많이 찾아와 도 발달하였습니다.

10

답을 쓰세요.

1 사람이 오고 가거나 물건을 옮기는 것을 무엇이라고 합니까?

1

2 자동차, 배, 비행기 등과 같은 을/를 이용하면 빠르고 편안하게 다른 지역으로 갈 수 있습니다.

2

3 학교에 갔다가 오거나 필요한 을/를 구하기 위하여 이동 수단을 이용합니다.

3

4 은/는 이사를 하거나 무거운 짐을 옮길 때 주로 이용하는 이동 수단입니다.

4

5 다음 내용 중 알맞은 말에 ○표 하시오.

5

이동 수단은 (친구나 친척을 만나기 , 소식을 주고받기) 위하여 필요합니다.

6 사람들끼리 생각이나 정보를 주고받는 것을 무엇이라고 합니까?

6

7 다음 내용 중 알맞은 말에 ○표 하시오.

7

(화상 전화 , 전자 우편)을/를 이용하면 멀리 떨어진 곳에 있는 사람의 얼굴을 볼 수 있고, 목소리도 들을 수 있습니다.

8 수단은 다른 사람들과 자유롭게 소식을 주고받기 위하여 필요합니다.

8

9 신문, 텔레비전, 인터넷 등을 이용하면 필요한 을/를 손쉽게 구할 수 있습니다.

9

10 우리는 의사소통 수단을 이용하여 여러 사람과 소식을 주고받고 필요한 정보를 얻으면서 서로 을/를 맺습니다.

10

1 한 사람이 타고 여러 사람이 함께 들고 갔던 옛날의 이동 수단은 무엇입니까?

1

2 다음 내용 중 알맞은 말에 ○표 하시오.

2

(소달구지 , 돛단배)은/는 옛날 사람들이 물 위에서 이용한 이동 수단으로, 바람의 힘을 이용하여 움직였습니다.

3 오늘날의 이동 수단 중 은/는 전기의 힘으로 움직이는 열차입니다.

3

4 커다란 풍선처럼 생긴 주머니 속의 공기를 따뜻하게 데워서 공중에 떠오르게 하였던 이동 수단은 무엇입니까?

4

5 수단이 크게 발전하면서 짧은 시간 안에 먼 곳까지 많은 사람과 물건을 실어 나를 수 있게 되었습니다.

5

6 낮에는 연기, 밤에는 횃불을 이용하여 나라의 급한 일을 전하였던 옛날의 의사소통 수단은 무엇입니까?

6

7 사람이 말을 타고 가거나 직접 걸어가서 나라의 중요한 일을 담은 문서를 전하였던 옛날의 의사소통 수단은 무엇입니까?

7

8 오늘날의 수단은 사람이 직접 가지 않고도 먼 곳에 있는 사람과 쉽고 빠르게 소식을 주고받을 수 있습니다.

8

9 다음 내용 중 알맞은 말에 ○표 하시오.

9

(유선 전화 , 팩시밀리)는 멀리 떨어진 곳에 있는 사람과 그림, 문자 등을 주고받을 수 있는 의사소통 수단입니다.

10 을/를 이용하면 이동하면서 다른 사람과 통화를 하고, 문자, 그림, 정보도 주고받을 수 있습니다.

10

답을 쓰세요.

1 다음 내용 중 알맞은 말에 ○표 하시오.

옛날에는 (소달구지 , 트럭)을/를 이용하여 물건을 옮겼습니다.

2 오늘날에는 수단의 발달로 다른 지역이나 고장뿐만 아니라 세계 여러 곳을 여행할 수 있습니다.

3 오늘날에는 의사소통 수단의 발달로 인터넷 통신망을 이용하여 물건을 사는 을/를 할 수 있습니다.

4 먼 거리에 떨어져 있는 사람들과 화면을 보면서 회의하는 것을 무엇이라고 합니까?

5 가파른 길을 오르내리면서, 수확한 농작물, 농기구나 비료를 운반해 주는 이동 수단은 무엇입니까?

6 은/는 갯벌이 있는 지역에서 조개나 낙지를 잡아 운반하거나 이동할 때 이용하는 이동 수단입니다.

7 다음 내용 중 알맞은 말에 ○표 하시오.

큰 도시에서는 강을 따라 이동하는 (수상 택시 , 지프 택시)를 이용하기도 합니다.

8 산이 있는 지역에서 높은 곳까지 쉽고 빠르게 이동하려고 이용하는 이동 수단은 무엇입니까?

9 촌락에서는 마을의 중요한 일을 사람들에게 알릴 때 를 이용합니다.

10 의사소통 수단이 발달하면서 다른 고장, 다른 나라의 친구들과 활동을 할 수 있게 되었습니다.

1

2

3

4

5

6

7

8

9

10

1 수단의 발달로 먼 곳까지 편리하고 빠르게 이동할 수 있지만, 환경이 오염되고 주차 공간이 부족한 문제점도 있습니다.

2 다음 내용 중 알맞은 말에 ○표 하시오.

오늘날에는 도로 위에 자동차 수가 많아서 (교통 정체 , 비행기 결항) 문제가 발생하고 있습니다.

3 수단의 발달로 편리하게 소식과 정보를 주고받을 수 있지만, 개인 정보를 이용한 범죄와 인터넷 게임 중독 등의 문제점도 있습니다.

4 은/는 언제 어디서든 통화를 할 수 있어 편리하지만, 잘못 사용하면 다른 사람에게 불편을 줄 수 있습니다.

5 오늘날에는 가족 모두가 유선 전화, 휴대 전화, 인터넷 등을 사용하여 이/가 늘어나고 있습니다.

6 직접 운전하지 않고도 생각대로 움직이는 이/가 개발되어 몸이 불편한 사람들이 자기가 원하는 곳으로 쉽게 움직일 수 있게 되었습니다.

7 접히는 전기 자동차는 접을 수 있기 때문에 을/를 해결할 수 있습니다.

8 다음 내용 중 알맞은 말에 ○표 하시오.

(팩시밀리 , 스마트폰)만 있으면 직접 시장에 가지 않아도 원하는 상품을 마음대로 살 수 있는 가게가 지하철역에 등장하였습니다.

9 의 이동과 의사소통 모습을 상상하여 표현하려면 먼저 오늘날 이동과 의사소통 수단의 문제점을 찾아야 합니다.

10 도로 위에서는 자동차로 달리다가 필요한 상황이 되면 비행기로 변신하는 자동차는 무엇입니까?

1

2

3

4

5

6

7

8

9

10

답을 쓰세요.

1 사람들이 어떤 일이나 활동을 하기 위하여 많이 모이는 곳을 (이)라고 합니다.

1

2 다음 내용 중 알맞은 말에 ○표 하시오.

2

(대형 마트 , 시외버스 터미널)에는 다른 고장에 가기 위하여 사람들이 많이 모입니다.

3 사람들은 필요한 을/를 받기 위하여 군청에 갑니다.

3

4 다음 내용 중 알맞은 말에 ○표 하시오

4

(도서관 , 병원)은 병을 치료하거나 예방하기 위하여 사람들이 많이 모이는 곳입니다.

5 알고 싶은 것을 실제로 찾아가서 보고 배우는 것을 무엇이라고 합니까?

5

6 견학 계획을 세울 때에는 먼저 견학하는 을/를 알아야 합니다.

6

7 중심지를 견학할 때 알고 싶은 것을 사람들에게 직접 물어보는 것을 (이)라고 합니다.

7

8 견학할 때 방문한 곳의 을/를 이용하면 도움이 됩니다.

8

9 다음 내용 중 알맞은 말에 ○표 하시오.

9

(엑스포 과학 공원 , 완도 연안 여객선 터미널) 주변에서는 전기 에너지관, 첨단 과학관 같은 전시관을 구경할 수 있습니다.

10 다음 내용 중 알맞은 말에 ○표 하시오.

10

여러 고장의 중심지를 살펴보면 고장마다 중심지를 대표하는 시설이 (같습니다 , 다릅니다).

답을 쓰세요.

1 다음 내용 중 알맞은 말에 ○표 하시오.

사람들은 약속 장소를 정할 때 (의사소통 , 이동)하기 편리한 곳에서 만나자고 합니다.

2 고장의 중심지는 이/가 편리하여 사람들이 찾아오기 쉬운 곳에 위치합니다.

3 다음 내용 중 알맞은 말에 ○표 하시오.

(공원 , 기차역)은 다른 고장과 연결하기에 좋은 곳에 위치해 있습니다.

4 사람들이 모이기 편리한 역 주변은 고장의 이/가 됩니다.

5 다른 지역으로 가기 위해 고속버스나 시외버스를 이용하려면 어디에서 타고 내려야 합니까?

6 다른 고장으로 멀리 이동할 때 자동차를 이용하면 주로 와/과 같이 큰 도로로 갑니다.

7 버스나 지하철이 지나는 길과 정류장을 나타낸 그림을 무엇이라고 합니까?

8 노선도는 지도 위에 있어 역의 위치를 알 수 있으며, 역과 역 사이의 거리도 정확합니다.

9 우리 고장의 버스나 지하철 노선을 에 그려 보면 우리 고장의 중심지가 어느 곳인지 찾을 수 있습니다.

10 버스나 지하철 노선이 여러 개일 경우 노선도가 서로 겹쳐지는 곳이 고장의 이/가 됩니다.

1

2

3

4

5

6

7

8

9

10

답을 쓰세요.

1 다음 내용 중 알맞은 말에 ○표 하시오.

우리 고장 중심지의 (옛날 , 오늘날) 모습을 살펴보면 좁고 구불구불한 길이 펼쳐져 있고, 나루터와 나룻배가 있습니다.

2 오늘날 우리 고장의 중심지는 사람이 많고 높은 건물이 많으며, 이/가 편리합니다.

3 우리 고장 중심지의 변화 모습을 (으)로 자세히 기록해 놓은 인터넷 누리집을 찾아서 보면 우리 고장 중심지의 변화 모습을 생생하게 볼 수 있습니다.

4 우리 고장에서 오랫동안 사진 들께 여쭙어 보면 우리 고장 중심지의 옛날 모습에 대해 알 수 있습니다.

5 다음 내용 중 알맞은 말에 ○표 하시오.

사진을 통해 옛날과 오늘날 우리 고장의 중심지 모습을 비교해 보면 (많이 변화였습니다 , 변하지 않았습니다).

6 옛날에 강 건너편으로 사람들을 실어 나르던 와/과 나루터가 있던 곳은 교통의 중심지였습니다.

7 고장의 중심지 역할은 옛날과 같기도 하고, 이/가 지나면서 달라지기도 합니다.

8 고장의 은/는 공항동과 같이 그 고장의 특징적인 모습을 따서 짓는 경우가 많았습니다.

9 다음 내용 중 알맞은 말에 ○표 하시오.

(남포동 , 장미동)은 부산광역시 중구에 있는 곳으로, 배가 드나들던 포구가 있었습니다.

10 은/는 제주특별자치도 서귀포시에 있는 곳으로, 논이 많아 제주 방언으로 ‘많다’는 뜻의 ‘하’를 넣어 고장의 이름을 지었습니다.

1

2

3

4

5

6

7

8

9

10

1 다음 내용 중 알맞은 말에 ○표 하시오.

(새로 생긴 중심지 , 옛날부터 있던 중심지)에는 시외버스 터미널이 있고, 낮은 건물과 좁은 도로가 많습니다.

2 물건을 사고파는 이/가 있는 중심지는 옛날부터 사람들이 많이 모인 곳입니다.

3 다음 내용 중 알맞은 말에 ○표 하시오.

(새로 생긴 중심지 , 옛날부터 있던 중심지)에는 크고 높은 건물이 많고, 큰 도로가 있습니다.

4 기차역이 생기고 큰길이 만들어지는 등 이/가 편리해지면 새로운 중심지가 생깁니다.

5 휴대 전화, 등을 이용하면 중심지에 대한 정보를 쉽게 얻을 수 있고, 다른 고장의 중심지도 쉽게 찾아갈 수 있습니다.

6 텔레비전 방송, 인터넷 등 이/가 발달하면 새로운 중심지가 생겨납니다.

7 새로운 건물이 생기거나 비슷한 일을 하는 건물들이 들어서면 사람들이 모이고 새로운 이/가 만들어집니다.

8 다음 내용 중 알맞은 말에 ○표 하시오.

(옛날 , 오늘날) 시장은 가게들이 들쭉날쭉 자리 잡고 있고, 주차장과 지붕이 없어 불편하였습니다.

9 작고 구불구불한 에 고장 사람들이 아름다운 그림을 그려서 꾸미자 다른 고장 사람들도 이를 보기 위해 찾아옵니다.

10 다음 내용 중 알맞은 말에 ○표 하시오.

시장 주변에 새로운 지하철역이 생기면 사람들이 모이기가 더 (쉬워질 , 힘들어질) 것입니다.

1

2

3

4

5

6

7

8

9

10

유형 1 고장의 위치를 알아보는 방법

(1) 위치의 뜻 : 무엇이 어디에 있는지를 나타내는 것입니다.

(2) 고장의 위치를 알아보는 방법

높은 곳에서 내려다보기	높은 곳에서 고장을 내려다봄.
항공 사진 살펴보기	비행기에서 땅의 모습을 찍은 항공 사진을 살펴봄.
주소 이용하기	주소는 사람이 살고 있는 곳이나 건물이 자리 잡고 있는 곳을 나타낸 것으로, 어떤 곳의 위치를 나타냄.
지도 이용하기	우리나라에서 우리 고장의 위치를 한눈에 쉽게 알 수 있음.

1 다음 빈칸에 들어갈 알맞은 말을 쓰시오.

고장에서 학교의 ()은/는 고장에서 학교가 어디에 있는지를 뜻합니다.

()

2 고장의 위치를 알아보는 방법으로 바르지 않은 것은 어느 것입니까? ()

- ① 주소를 이용한다.
- ② 지도를 이용한다.
- ③ 높은 곳에서 내려다본다.
- ④ 도서관에서 백과사전을 찾아본다.
- ⑤ 인터넷에서 고장의 항공 사진을 찾아본다.

3 주소를 알면 좋은 점은 무엇입니까? ()

- ① 고장의 역사를 알 수 있다.
- ② 고장의 자연환경을 알 수 있다.
- ③ 고장 사람들의 생김새를 알 수 있다.
- ④ 고장의 모습을 한눈에 쉽게 알 수 있다.
- ⑤ 고장의 건물이 자리 잡고 있는 곳을 알 수 있다.

유형 2 지도를 이용하여 고장의 위치 찾기

(1) 지도의 뜻 : 위에서 내려다본 실제 땅의 모습을 일정하게 줄여서 나타낸 그림입니다.

(2) 지도를 이용하면 좋은 점

- ① 우리 집이나 고장의 위치를 한눈에 볼 수 있습니다.
- ② 다른 장소나 건물을 쉽게 찾아갈 수 있습니다.

(3) 지도를 이용하여 고장의 위치를 알아보는 방법

- ① 우리 고장이 우리나라에서 어디에 위치하는지 살펴보려면 넓은 지역을 보여 주는 지도가 필요합니다.
- ② 인터넷 지도를 이용하여 우리 고장의 위치를 찾을 수 있습니다.

4 위에서 내려다본 실제 땅의 모습을 일정하게 줄여서 나타낸 그림을 무엇이라고 하는지 쓰시오.

()

5 지도를 이용하면 좋은 점으로 바르지 않은 것은 어느 것입니까? ()

- ① 고장의 위치를 알 수 있다.
- ② 건물의 위치를 찾을 수 있다.
- ③ 다른 장소를 쉽게 찾아갈 수 있다.
- ④ 고장 사람들의 직업을 알 수 있다.
- ⑤ 우리 집의 위치를 한눈에 볼 수 있다.

6 다음 보기에서 우리 고장이 우리나라에서 어디에 위치하는지 살펴보기 위해 이용해야 하는 지도를 골라 기호를 쓰시오.

보기

- ㉠ 경기도 지도 ㉡ 분당구 지도
- ㉢ 성남시 지도 ㉣ 우리나라 전체 지도

()

유형 1 방위

(1) 방위의 뜻 : 지도에서는 동서남북을 이용하여 위치를 나타내는데, 이것을 방위라고 합니다.

(2) 방위를 알아내는 방법

방위표 이용하기	<ul style="list-style-type: none"> • 방위는 방위표를 이용하여 나타냄. • 방위표가 없는 경우에는 지도의 위쪽이 북쪽, 아래쪽이 남쪽이 됨.
나침반 이용하기	나침반을 평평한 곳에 올려 놓았을 때 빨간 바늘이 가리키는 쪽이 북쪽임.

(3) 방위를 이용하면 좋은 점 : 사람이나 건물이 향한 방향과 관계없이 위치를 나타낼 수 있습니다.

1 다음에서 설명하는 것은 무엇인지 쓰시오.

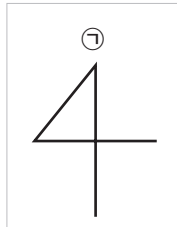
- 지도에서 동서남북을 이용하여 위치를 나타내는 것을 말합니다.
- 사람이나 건물이 향한 방향과 관계없이 위치를 나타낼 수 있습니다.

()

2 오른쪽 방위표에서 ㉠이 가리키는 방위는 무엇입니까?

()

- ① 동쪽 ② 서쪽
③ 남쪽 ④ 북쪽
⑤ 북동쪽



3 다음 그림지도에서 시장의 동쪽에 있는 것은 어느 것입니까? ()



- ① 공원 ② 병원 ③ 학교
④ 세탁소 ⑤ 기차역

유형 2 그림 기호와 기호

(1) 그림 기호 : 땅의 모양이나 건물의 모습을 알기 쉽게 나타낸 것인데, 그리는 사람에 따라 모양이 조금씩 다릅니다.

(2) 색을 이용하여 나타내기 : 색을 이용하여 땅의 높낮이와 쓰임새를 표현하기도 합니다.

(3) 지도에 사용하는 기호

- ① 사람들이 약속하여 미리 정하여 놓은 것입니다.
② 그림 기호보다 좀 더 간단합니다.

4 지도를 그릴 때 그림 기호를 사용하면 좋은 점은 어느 것입니까? ()

- ① 간단하게 나타낼 수 있다.
② 건물의 높이를 알 수 있다.
③ 실제 모습과 똑같이 나타낼 수 있다.
④ 그리는 사람마다 다르게 그릴 수 있다.
⑤ 땅 위에 있는 것들을 모두 나타낼 수 있다.

5 다음 빈칸에 들어갈 알맞은 말을 쓰시오.

지도에 사용하는 ()은/는 사람들이 약속하여 미리 정하여 놓은 것으로, 그림 기호보다 좀 더 간단합니다.

()

6 오른쪽의 기호가 나타내는 것은 무엇입니까? ()



- ① 병원 ② 다리
③ 우체국 ④ 아파트
⑤ 소방서

유형 1 환경과 생활 모습

(1) 자연환경과 사람들이 만든 환경

자연환경	산, 들, 하천, 바다와 같은 땅의 모양과 날씨와 계절을 나타내는 기온, 눈과 비, 바람 등을 말함.
사람들이 만든 환경	다리, 도로, 공장, 아파트 등과 같이 사람들이 만든 환경을 말함.

(2) 땅의 모양에 따른 생활 모습

산	공원이나 등산길을 만들어 이용함.
들	도로와 아파트, 큰 건물 등을 지어 이용함.
하천	공원을 만들어 고장 사람들이 산책하거나 운동하는 곳으로 이용함.

1 고장의 자연환경에 해당하는 것이 아닌 것은 어느 것입니까? ()



2 산이 있는 곳에 사는 사람들의 생활 모습으로 바르지 않은 것은 어느 것입니까? ()

- ① 약초를 캔다.
- ② 벌을 기른다.
- ③ 버섯을 재배한다.
- ④ 공원이나 등산길을 만들어 이용한다.
- ⑤ 도로와 아파트, 큰 건물 등을 지어 이용한다.

유형 2 계절에 따른 사람들의 생활 모습

(1) 우리나라의 계절별 기온과 강수량

- ① 우리나라는 계절에 따라 날씨가 다른데, 특히 계절별로 기온과 강수량의 차이가 큼.
- ② 여름에는 덥고 비가 많이 오며, 겨울에는 춥고 눈이 내립니다.

(2) 자연 현상으로 인한 피해와 극복 노력

구분	자연 현상 피해	극복 노력
산이 많은 지역	산사태, 눈사태 등	나무 심기, 사방 공사 등
하천 주변 지역	홍수, 가뭄 등	하천 정비, 댐 만들기 등
바다와 가까운 지역	해일 등	해일 대피 훈련, 방파제 쌓기 등

3 다음 ㉠, ㉡에 들어갈 알맞은 계절을 쓰시오.

우리나라는 계절별로 기온과 강수량의 차이가 큰데, (㉠)에는 덥고 비가 많이 오며, (㉡)에는 춥고 눈이 내립니다.

㉠ : (), ㉡ : ()

4 여름철에 볼 수 있는 생활 모습으로 알맞은 것은 어느 것입니까? ()

- ① 난로를 사용한다.
- ② 단풍 구경을 간다.
- ③ 두꺼운 옷을 입는다.
- ④ 스키나 눈썰매를 탄다.
- ⑤ 얇은 반팔 옷을 입는다.

5 산사태를 예방하기 위한 노력으로 바른 것을 두 가지 고르시오. (,)

- ① 사방 공사
- ② 나무 심기
- ③ 댐 만들기
- ④ 하천 정비
- ⑤ 방파제 쌓기

유형 1 고장 사람들이 하는 일

(1) 고장의 자연환경과 사람들이 하는 일

들	<ul style="list-style-type: none"> • 회사에서 일을 함. • 들에서 벼농사를 지음.
산	과수원에서 과일을 재배함.
바다	<ul style="list-style-type: none"> • 바다에서 잡은 대게를 사고파는 일을 함. • 바다에서 고기를 잡거나 양식을 함.

(2) 산업의 뜻 : 생활에 필요한 물건을 만들거나 사람들을 편리하게 도와주는 일 등을 말합니다.

(3) 고장의 발달한 산업과 사람들이 하는 일

조선업	커다란 배를 만들거나 조립하는 일을 함.
풍력 에너지 산업	풍력 발전기를 점검하는 일을 함.

1 산이 있는 고장에 사는 사람들이 주로 하는 일은 어느 것입니까? ()

- ① 고기잡이 ② 벼농사 짓기
- ③ 과일 재배하기 ④ 회사에서 일하기
- ⑤ 대게 사고팔기

2 생활에 필요한 물건을 만들거나 사람들을 편리하게 도와주는 일 등을 무엇이라고 하는지 쓰시오.

()

3 다음과 같은 일을 하는 고장에서 발달한 산업은 무엇입니까? ()

커다란 배를 만들거나 조립하는 일을 합니다.

- ① 어업 ② 조선업
- ③ 관광업 ④ 숙박업
- ⑤ 풍력 에너지 산업

유형 2 산업 발달에 따라 달라지는 고장의 변화

(1) 옛날과 오늘날 고장 사람들이 하는 일의 변화

- ① 새롭게 생겨난 일도 있고 사라진 일도 있습니다.
- ② 옛날에 일하던 모습이 오늘날에 새로운 모습으로 변화된 것도 있습니다.
- ③ 일을 할 때 사용하는 도구가 달라졌습니다.

(2) 발달한 산업에 따라 변화하는 고장의 모습

- ① 발달한 산업에 따라 고장의 모습은 변화합니다.
- ② 발달한 산업에 따라 고장 사람들이 하는 일이나 생활 모습도 달라집니다.

4 옛날 사람들이 하는 일을 찾아 기호를 쓰시오.

㉠

㉡



()

5 다음 빈칸에 들어갈 알맞은 말은 어느 것입니까? ()

옛날에는 지계를 이용하여 물건을 옮겼지만, 오늘날에는 ()을/를 이용합니다.

- ① 가축 ② 도끼
- ③ 트럭 ④ 다리미
- ⑤ 모터보트

6 다음 보기에서 고장 사람들이 하는 일에 영향을 주는 것을 모두 골라 기호를 쓰시오.

보기

- ㉠ 발달한 산업 ㉡ 고장의 이름
- ㉢ 고장의 자연환경 ㉣ 고장 사람들의 키

()

유형 1 이동 수단이 필요한 까닭

(1) 이동과 이동 수단

이동	사람이 오고 가거나 물건을 다른 곳으로 옮기는 것을 말함.
이동 수단	자전거, 자동차, 버스, 트럭, 열차, 배, 비행기 등이 있음.

(2) 이동 수단을 이용하는 까닭 : 필요한 물건을 구하기 위하여, 친구나 친척을 만나기 위하여, 학교에 갔다가 오기 위하여, 무거운 짐을 옮기기 위하여, 출·퇴근을 하기 위하여 등

1 다음에서 설명하는 것은 무엇인지 쓰시오.

- 사람이 오고 가거나 물건을 다른 곳으로 옮기는 것을 말합니다.
- 자동차, 버스, 트럭, 배, 비행기 등을 이용합니다.

()

2 다음 빈칸에 들어갈 알맞은 이동 수단은 무엇입니까? ()

미국에 사는 외삼촌이 수민이에게 () 을/를 이용하여 소포를 보냈습니다.

- ① 열차 ② 트럭
- ③ 비행기 ④ 승용차
- ⑤ 고속버스

3 이동 수단을 이용하는 까닭이 아닌 것은 어느 것입니까? ()

- ① 출·퇴근을 하기 위하여
- ② 필요한 물건을 구하기 위하여
- ③ 친구나 친척들을 만나기 위하여
- ④ 사람들과 소식을 주고받기 위하여
- ⑤ 이사할 때 무거운 짐을 옮기기 위하여

유형 2 의사소통 수단이 필요한 까닭

(1) 의사소통과 의사소통 수단

의사소통	사람들끼리 생각이나 정보를 주고받는 것을 말함.
의사소통 수단	편지, 전화, 인터넷, 팩시밀리, 전자 우편, 휴대 전화 등이 있음.

(2) 의사소통 수단이 필요한 까닭

- 다른 사람들과 자유롭게 소식을 주고받기 위하여
- 필요한 정보를 손쉽게 구하기 위하여

4 생활 속에서 이용하는 의사소통 수단이 아닌 것은 어느 것입니까? ()

- ① 편지 ② 버스
- ③ 인터넷 ④ 팩시밀리
- ⑤ 전자 우편

5 다음에서 설명하는 의사소통 수단은 무엇입니까? ()

멀리 떨어진 곳에 있는 사람의 얼굴을 볼 수 있고, 목소리도 들을 수 있습니다.



- ① 편지 ② 소포
- ③ 팩시밀리 ④ 화상 전화
- ⑤ 전자 우편

6 다음 빈칸에 들어갈 알맞은 말을 쓰시오.

사람들은 () 수단을 이용하여 여러 사람과 소식을 주고받고 필요한 정보를 얻으면서 서로 관계를 맺습니다.

()

유형 1 이동 수단의 발달

(1) 옛날의 이동 수단

특징	<ul style="list-style-type: none"> • 직접 걷거나 가축 또는 가마를 이용하여 다른 지역으로 이동하였음. • 힘이 들고 시간이 많이 걸려서 불편하였음.
종류	말, 가마, 소달구지, 인력거, 지게, 뗏목, 돛단배 등이 있었음.


(2) 오늘날의 이동 수단

특징	짧은 시간 안에 먼 곳까지 많은 사람과 물건을 실어 나를 수 있게 되었음.
종류	버스, 자동차, 택시, 전기 기관차, 비행기, 쾌속선 등이 있음.

1 옛날 사람들이 땅 위에서 물건을 옮길 때 이용한 이동 수단은 어느 것입니까? ()

- ① 뗏목 ② 가마 ③ 돛단배
④ 인력거 ⑤ 소달구지

2~3 다음 물 위에서 이용하는 이동 수단을 보고, 물음에 답하시오.



2 위 이동 수단 중 사람의 힘으로 움직이는 배를 찾아 기호를 쓰시오.

()

3 위 이동 수단을 발달 과정에 맞게 순서대로 기호를 나열하시오.

(→ → →)

유형 2 의사소통 수단의 발달

(1) 옛날의 의사소통 수단

특징	<ul style="list-style-type: none"> • 직접 가거나 연기나 불로 신호를 보냈음. • 시간이 많이 걸리고 소식을 자세히 전하기 어려웠음.
종류	봉수, 파발, 신호 연 등이 있었음.

(2) 오늘날의 의사소통 수단

특징	<ul style="list-style-type: none"> • 사람이 직접 가지 않고도 먼 곳에 있는 사람과 쉽고 빠르게 소식을 주고받을 수 있음. • 어디에서나 짧은 시간 안에 다양하고 많은 정보를 얻을 수 있음.
종류	우편, 전자 우편, 유선 전화, 팩시밀리, 휴대 전화, 인터넷 등이 있음.

4 다음 사진의 의사소통 수단에 대한 설명으로 바른 것을 두 가지 고르시오. (,)



- ① 기발과 보발이 있었다.
② 오늘날에도 이용하고 있다.
③ 낮에는 연기, 밤에는 횃불로 신호를 보냈다.
④ 횃불의 개수가 많을수록 위급한 상황임을 뜻한다.
⑤ 나라의 중요한 일을 담은 문서를 사람이 직접 전하였다.

5 다음 빈칸에 들어갈 알맞은 의사소통 수단을 쓰시오.

()은/는 이동하면서 다른 사람과 통화를 하고 문자, 그림, 정보도 주고받을 수 있습니다.

()

유형 1 이동과 의사소통 수단의 발달에 따라 달라진 생활 모습

(1) 이동 수단이 발달하면서 달라진 생활 모습

- ① 먼 곳까지 편하게 이동할 수 있습니다.
- ② 목적지까지 빠르게 이동할 수 있습니다.
- ③ 다른 지역이나 고장뿐만 아니라 세계 여러 곳을 여행할 수 있습니다.
- ④ 지역 간의 교류가 늘어나고 필요한 것을 쉽게 구할 수 있습니다.

(2) 의사소통 수단이 발달하면서 달라진 생활 모습

인터넷 쇼핑	인터넷 통신망을 이용하여 물건을 살 수 있음.
화상 회의	먼 거리에 떨어져 있는 사람들과 화면을 보면서 회의를 할 수 있음.
휴대용 컴퓨터	휴대용 컴퓨터를 이용하여 편리하게 책을 볼 수 있음.

1 이동 수단의 발달에 따라 달라진 생활 모습으로 바른 것을 두 가지 고르시오.(,)

- ① 지역 간의 교류가 줄어들게 되었다.
- ② 세계 여러 곳을 여행할 수 있게 되었다.
- ③ 먼 곳까지 편하게 이동할 수 있게 되었다.
- ④ 필요한 정보를 쉽고 편리하게 구할 수 있다.
- ⑤ 직접 상점에 가지 않아도 물건을 살 수 있다.

2 오늘날 의사소통 수단으로 인해 달라진 생활 모습으로 알맞지 않은 것은 어느 것입니까? ()

- ① 휴대용 컴퓨터를 이용하여 책을 볼 수 있다.
- ② 휴대 전화로 통화와 문자만 주고받을 수 있다.
- ③ 다른 고장, 다른 나라의 친구들과 화상 수업 활동을 한다.
- ④ 버스 정류장에서 버스 도착 예정 시간을 확인할 수 있다.
- ⑤ 먼 거리에 떨어진 사람들과 화면을 보면서 회의를 할 수 있다.

유형 2 지역에 따른 이동과 의사소통 수단

(1) 지역의 환경에 따라 이용하는 특별한 이동 수단

모노레일	가파른 길을 오르내리면서, 수확한 농작물, 농기구나 비료를 운반해 줌.
지프 택시	산이 가파르고 겨울에 눈이 많이 오기 때문에 일반 택시가 다니기 어려운 울릉도에서 이용함.
널배	갯벌이 있는 지역에서 조개나 낙지를 잡아 운반하거나 이동할 때 이용함.
수상 택시	큰 도시에서 강을 따라 이동함.
케이블카	산이 있는 지역에서 높은 곳까지 쉽고 빠르게 이동하려고 이용함.

(2) 지역에서 활용하고 있는 의사소통 수단 : 버스 도착 정보 안내 시스템, 마을 방송, 무전기

3 산이 있는 지역에서 주로 이용하는 이동 수단을 보기에서 모두 골라 기호를 쓰시오.

보기

- | | |
|--------|---------|
| ㉠ 지하철 | ㉡ 케이블카 |
| ㉢ 모노레일 | ㉣ 수상 택시 |

()

4 갯벌이 있는 지역에서 이용하는 오른쪽의 이동 수단은 무엇인지 쓰시오.

()



5 다음 중 깊은 산 속에서 이용하는 의사소통 수단은 무엇인지 기호를 쓰시오.

㉠

㉡



▲ 버스 도착 정보 안내



▲ 무전기

()

유형 1 오늘날 이동과 의사소통 수단의 문제점

이동 수단의 문제점	<ul style="list-style-type: none"> • 날씨 때문에 비행기가 운항되지 않음. • 석유나 가스 등이 줄어들. • 자동차 수가 증가하여 주차할 공간이 부족함. • 배에서 흘러나온 기름 때문에 바다가 오염됨.
의사소통 수단의 문제점	<ul style="list-style-type: none"> • 주민 등록 번호, 이름, 주소 등을 다른 사람이 알게 되면 범죄에 이용되기도 함. • 인터넷 게임을 너무 많이 해서 건강이 나빠지기도 함. • 인터넷에 다른 사람을 욕하거나 잘못된 글을 올려 문제가 되기도 함. • 가족 모두가 유선 전화, 휴대 전화, 인터넷 등을 사용하여 통신 요금이 늘어나고 있음.

1 다음 보기에서 이동 수단의 문제점을 모두 고른 것은 어느 것입니까? ()

보기

- ㉠ 주차 문제 ㉡ 교통 정체
㉢ 개인 정보 유출 ㉣ 인터넷 게임 중독

- ① ㉠, ㉡ ② ㉠, ㉢ ③ ㉡, ㉣
④ ㉢, ㉣ ⑤ ㉢, ㉣

2 다음 내용과 관계 깊은 문제점은 어느 것입니까? ()

- 인터넷에 다른 사람을 욕하거나 잘못된 글을 올려 문제가 되기도 합니다.
- 휴대 전화를 잘못 사용하면 다른 사람에게 불편을 줄 수 있습니다.

- ① 이동 수단의 환경 오염 문제
② 이동 수단의 에너지 부족 문제
③ 의사소통 수단의 통신 요금 증가 문제
④ 의사소통 수단의 인터넷 게임 중독 문제
⑤ 의사소통 수단이 다른 사람에게 피해를 주는 문제

유형 2 이동과 의사소통 수단의 발달에 따른 미래의 모습

(1) 가까운 미래에 사용될 이동과 의사소통 수단의 모습

이동 수단의 모습	<ul style="list-style-type: none"> • 생각대로 움직이는 휠체어 • 접히는 전기 자동차
의사소통 수단의 모습	<ul style="list-style-type: none"> • 컴퓨터가 되는 안경 • 함께 사용할 수 있는 투명한 모니터 • 스마트폰으로 물건 사기

(2) 미래의 이동과 의사소통 모습을 상상하여 표현하는 과정 : 이동과 의사소통 수단의 문제점이나 불편한 점 찾기 → 이동과 의사소통 수단의 문제점 해결 방법 찾기 → 찾아낸 해결 방법의 문제점을 생각하여 보기 → 오늘날의 문제를 해결한 미래의 이동과 의사소통 모습 상상하기 → 미래의 이동과 의사소통 모습을 다양한 방법으로 표현하여 발표하기

3 환경을 보호하고 주차 문제를 해결할 수 있는 미래의 이동 수단은 무엇입니까? ()

- ① 스마트폰
② 컴퓨터가 되는 안경
③ 접히는 전기 자동차
④ 생각대로 움직이는 휠체어
⑤ 함께 사용할 수 있는 투명한 모니터

4 미래의 이동과 의사소통 모습을 상상한 것으로 알맞은 것을 두 가지 고르시오. (,)

- ① 고장 간의 교류가 줄어들 것이다.
② 필요한 정보를 얻으려면 오래 기다려야 할 것이다.
③ 인간과 환경을 생각하면서 끊임없이 변화할 것이다.
④ 다른 고장에서 생산된 물건을 구하기 어려워질 것이다.
⑤ 자동차로 달리다가 필요한 상황이 되면 비행기로 변신하는 하늘을 나는 자동차가 등장할 것이다.

유형 1 우리 고장의 중심지

(1) 중심지의 뜻 : 사람들이 어떤 일이나 활동을 하기 위하여 많이 모이는 곳입니다.

(2) 중심지에 모이는 이유

시외버스 터미널	다른 고장에 가기 위하여
군청	필요한 서류를 받기 위하여
병원	병을 치료하거나 예방하기 위하여
우체국	편지나 물건을 보내기 위하여

(3) 중심지의 모습이 지닌 특징

- ① 논과 밭이 없습니다.
- ② 사람의 모습이 많이 보입니다.
- ③ 크고 높은 건물이 많이 모여 있습니다.
- ④ 사람들이 많이 모여 있어서 복잡해 보입니다.

1 사람들이 어떤 일이나 활동을 하기 위하여 많이 모이는 곳을 무엇이라고 하는지 쓰시오.
()

2 고장의 중심지에 대한 설명으로 바르지 않은 것은 어느 것입니까? ()

- ① 교통이 편리하다.
- ② 사람들이 많이 모이는 곳이다.
- ③ 다른 곳에 비해 비교적 조용하다.
- ④ 크고 높은 건물이 많이 모여 있다.
- ⑤ 군청, 터미널, 시장, 은행, 영화관 등 여러 가지 시설이 있다.

3 고장의 중심지 중 사람들이 편지나 물건을 보내기 위하여 많이 모이는 곳은 어디입니까? ()

- ① 구청 ② 학교
- ③ 영화관 ④ 우체국
- ⑤ 시외버스 터미널

유형 2 여러 고장의 중심지 모습 비교하기

(1) 중심지 견학하기

견학 계획 세우기	견학하는 목적 알기 → 견학할 날짜와 시간 정하기 → 조사할 내용 정하기 → 조사 방법 및 준비물 정하기 → 역할 나누기 → 주의할 점 알아보기
견학하기	방문한 곳의 안내 자료를 모으고, 정보를 수집하기
보고서 쓰기	보고서의 제목을 정하고, 자료를 정리하여 오려 붙이거나 글로 써 완성하기
발표하기	모둠별로 견학 보고서를 발표하기

(2) 여러 고장의 중심지 모습 비교하기

비슷한 점	<ul style="list-style-type: none"> • 건물이 많음. • 사람들이 많이 모임.
다른 점	<ul style="list-style-type: none"> • 중심지를 대표하는 시설이 다름. • 사람들이 중심지에 모이는 이유가 다름.

4 우리 고장의 중심지를 견학하려고 할 때, 견학 계획 세우기 과정에서 해야 할 일이 아닌 것은 어느 것입니까? ()

- ① 보고서 작성하기
- ② 조사 방법 정하기
- ③ 조사할 내용 정하기
- ④ 주의할 점 알아보기
- ⑤ 견학하는 목적 알기

5 여러 고장의 중심지 모습을 살펴보고, 비슷한 점을 보기에서 모두 골라 기호를 쓰시오.

보기

- ㉠ 교통이 편리합니다.
- ㉡ 높은 건물과 사람이 많습니다.
- ㉢ 중심지를 대표하는 시설이 비슷합니다.
- ㉣ 사람들이 중심지에 모이는 이유가 비슷합니다.

()

유형 1 사람들이 모이기 편리한 곳

(1) 사람들이 이동하기 편리한 곳

기차역	기차를 타고 내리는 곳으로, 철도로 연결된 고장을 갈 때 이용함.
버스 터미널	다른 지역으로 가기 위해 고속버스나 시외버스를 이용하는 곳임.
버스 정류장	버스를 타고 내리는 곳임.
큰 도로	자동차로 이동할 때 편리하게 이용할 수 있음.

(2) 기차역 주변의 모습

- ① 기차역과 지하철역이 서로 연결되어 있습니다.
- ② 주변에는 운동장, 도서관, 아파트, 병원, 학교 등 많은 시설이 있습니다.
- ③ 기차역에서 사람들이 기차를 기다리고 있습니다.

1 다른 고장으로 가기 위해 고속버스나 시외버스를 탈 때 이용하는 곳은 어디입니까? ()

- ① 공항
- ② 기차역
- ③ 지하철역
- ④ 버스 터미널
- ⑤ 고속 국도 나들목

2 다음과 같은 장소의 특징으로 알맞은 것을 두 가지 고르시오. (,)



▲ 기차역



▲ 버스 터미널

- ① 교통이 편리하다.
- ② 공공 기관을 이용할 수 있다.
- ③ 생활에 필요한 물건을 살 수 있다.
- ④ 필요한 정보를 쉽게 구할 수 있다.
- ⑤ 다른 지역으로 빠르고 편리하게 오고 갈 수 있다.

유형 2

버스나 지하철 노선도를 그려 보면서 고장의 중심지 찾기

(1) 노선도의 뜻 : 버스나 지하철이 지나는 길과 정류장을 나타낸 그림입니다.

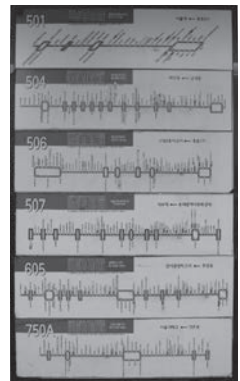
(2) 우리 고장의 버스나 지하철 노선도 그리기

우리 고장의 백지도 준비하기 ➡ 백지도에 지하철역 표시하기 ➡ 지하철역을 서로 연결하여 노선도 완성하기 ➡ 교통의 중심지라고 생각되는 곳 표시하기

(3) 노선도에서 중심지 찾기 : 버스나 지하철 노선이 여러 개일 경우 노선도가 서로 겹쳐지는 곳이 중심지가 됩니다.

3 오른쪽과 같이 버스가 지나는 길과 정류장을 나타낸 그림을 무엇이라고 합니까? ()

- ① 기후도
- ② 노선도
- ③ 안내도
- ④ 백지도
- ⑤ 그림지도



4 다음 노선도를 보고, 고장에서 교통의 중심지 역할을 하는 곳을 찾아 기호를 쓰시오.



()

유형 1 우리 고장 중심지의 옛날 모습

(1) 고장 중심지의 옛날 모습을 알아보는 방법

우리 고장의 옛날 사진 찾아보기, 우리 고장에 오랫동안 사신 어른들께 여쭙어 보기, 인터넷 검색으로 알아보기 등

(2) 고장 중심지의 옛날과 오늘날 모습 비교하기

옛날	오늘날
<ul style="list-style-type: none"> • 밭과 좁고 구불구불한 길이 펼쳐져 있었음. • 나루터와 나룻배가 있었음. 	<ul style="list-style-type: none"> • 아파트와 높은 건물이 있음. • 강을 건널 수 있는 다리가 있음.

1 고장 중심지의 옛날 모습을 알아보는 방법으로 바르지 않은 것은 어느 것입니까? ()

- ① 백과사전 찾아보기
- ② 인터넷 검색으로 알아보기
- ③ 고장의 항공 사진 살펴보기
- ④ 고장의 옛날 사진 찾아보기
- ⑤ 고장에 오랫동안 사신 어른께 여쭙어 보기

2 다음 고장 중심지의 옛날과 오늘날 모습을 바르게 비교한 것은 어느 것입니까? ()



▲ 중심지의 옛날 모습



▲ 중심지의 오늘날 모습

- ① 옛날에는 넓은 도로가 많았다.
- ② 옛날에는 길에 다니는 사람들이 오늘날보다 많았다.
- ③ 오늘날에는 아파트와 높은 건물이 많다.
- ④ 오늘날에는 좁고 구불구불한 길이 펼쳐져 있다.
- ⑤ 옛날과 오늘날 고장 중심지의 모습은 거의 변화가 없다.

유형 2 고장 중심지의 역할과 중심지의 미래 모습

(1) 고장 중심지의 옛날과 오늘날의 역할 : 고장의 중심지 역할은 옛날과 같기도 하고, 시간이 지나면서 달라지기도 합니다.

예

옛날 교통의 중심지	오늘날 교통의 중심지
강 건너편으로 사람들을 실어 나르던 나룻배와 나루터가 있었음.	강을 건널 수 있는 길고 넓은 다리가 생겼음.

(2) 고장 사람들이 바라는 중심지의 미래 모습(예)

- ① 예쁜 벚꽃나무와 은행나무들이 큰 도로에 많이 심어져 있었으면 좋겠습니다.
- ② 친구들과 즐겁게 놀 수 있는 공원이 곳곳에 있었으면 좋겠습니다.
- ③ 버스 정류장이나 지하철역에 장애인들이 편리하게 사용할 수 있는 시설이 많이 갖추어졌으면 좋겠습니다.
- ④ 자전거 도로가 더 많이 생겨서 가까운 거리는 자전거를 타고 다니는 사람이 많아졌으면 좋겠습니다.

3 다음 빈칸에 들어갈 알맞은 말을 쓰시오.

옛날에 ()의 중심지였던 나루터는 오늘날 강을 건널 수 있는 길고 넓은 다리로 변화하였습니다.

()

4 우리 고장 사람들이 바라는 미래의 중심지 모습을 잘못 말한 어린이는 누구입니까? ()

- ① 지효 : 자전거 도로가 더 많아졌으면 좋겠어.
- ② 효리 : 놀이 시설이나 도서관이 더 많아졌으면 좋겠어.
- ③ 석진 : 사람들이 더 즐겁고 편하게 살 수 있었으면 좋겠어.
- ④ 재석 : 낮은 건물을 모두 없애고 아파트가 많아졌으면 좋겠어.
- ⑤ 종국 : 버스 정류장을 지하에 만들어 교통 혼잡을 줄였으면 좋겠어.

유형 1 새로 생긴 중심지의 모습

(1) 새로 생긴 중심지와 옛날부터 있던 중심지 비교하기

비슷한 점	<ul style="list-style-type: none"> • 사람이 많고 차가 많이 다님. • 사람들이 이용하는 건물들이 모여 있음.
다른 점	<p>새로 생긴 중심지에는 큰 도로와 높은 건물이 많은데, 옛날부터 있던 중심지에는 좁은 도로와 낮은 건물이 많음.</p>

(2) 중심지가 새로 생기는 까닭

- ① 교통의 발달 : 기차역이나 큰길이 생겼기 때문입니다.
- ② 통신의 발달 : 휴대 전화, 인터넷 등을 이용하게 되었기 때문입니다.

1~2 다음 사진을 보고, 물음에 답하십시오.

(가)



(나)



1 위 (가), (나) 중 새로 생긴 중심지의 모습을 찾아 기호를 쓰시오.

()

2 위 두 중심지의 비슷한 점을 바르게 설명한 것을 두 가지 고르시오. (,)

- ① 차가 많이 다닌다.
- ② 오고 가는 사람들이 적다.
- ③ 공기가 깨끗하고 조용하다.
- ④ 좁은 도로와 낮은 건물이 많다.
- ⑤ 사람들이 이용하는 건물들이 모여 있다.

3 다음 빈칸에 들어갈 알맞은 말을 쓰시오.

기차역이나 큰길이 생기면 ()이/가 발달하면서 새로운 중심지가 생겨납니다.

()

유형 2 옛날부터 있던 중심지의 변화

(1) 시장의 변화

- ① 오늘날 시장의 모습 : 새로 생긴 대형 마트처럼 주차장도 있고, 비를 피할 수 있는 지붕도 만들었습니다.
- ② 시장이 달라지는 이유
 - 시장이 좋아야 사람들이 많이 가기 때문입니다.
 - 사람들이 대형 마트에 더 많이 가기 때문입니다.
 - 시장이 깨끗해지고 편리해지면 사람들이 더 오니까 장사가 잘되고 시장이 발전하기 때문입니다.

(2) 골목길의 변화

길이 작고 구불구불해서 사람과 차가 다니기 어려웠음.



벽에 그림을 그리고 아름답게 꾸며서 다른 고장 사람들도 골목길을 보기 위하여 찾아옴.

4 옛날부터 있던 중심지인 시장이 오른쪽 사진과 같이 변화한 이유는 무엇입니까? ()



- ① 물건을 비싸게 팔기 위하여
- ② 차가 많이 다니지 않도록 하기 위하여
- ③ 사람들이 시장에 많이 오도록 하기 위하여
- ④ 시장 주변의 공기를 깨끗하게 하기 위하여
- ⑤ 물건의 생산지를 정확하게 표시하기 위하여

5 다음 빈칸에 공통으로 들어갈 알맞은 말을 쓰시오.

○○ 고장은 탄광 마을을 살리기 위하여 여러 가지 방법을 생각하다가 ()을/를 만들었습니다. ()을/를 만들고 난 뒤에는 이 고장 사람들뿐만 아니라 다른 고장 사람들도 이곳을 찾아옵니다.

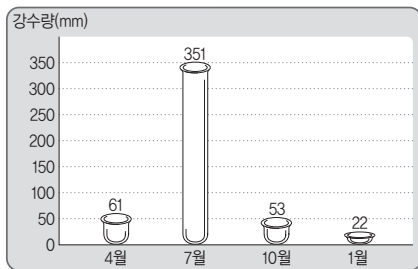
()

1-③ 우리 고장의 모습

- 5 다음과 같이 산이 있는 곳에 사는 사람들의 생활 모습을 두 가지 쓰시오.



- 6 다음은 경기도 수원시의 강수량 그래프입니다. 이 지역에 홍수가 발생하기 쉬운 계절은 언제인지 쓰고, 홍수를 극복하기 위한 노력을 한 가지만 쓰시오.



▲ 경기도 수원시의 강수량

(1) 계절 : ()

(2) 홍수를 극복하기 위한 노력 : _____

1-④ 우리 고장 사람들이 하는 일

- 7 다음 사진과 같이 산이 있는 곳에서 하는 일과 바다가 있는 곳에서 하는 일이 서로 다른 까닭은 무엇인지 쓰시오.



▲ 산이 있는 곳



▲ 바다가 있는 곳

- 8 다음 사진을 보고, 고장의 발달한 산업은 오늘날 어떻게 달라졌는지 쓰시오.



▲ 고장의 옛날 모습



▲ 고장의 오늘날 모습

2-① 생활 속 이동과 의사소통 수단

1 우리 생활에서 다음과 같은 이동 수단을 이용하는 까닭을 두 가지 쓰시오.



▲ 버스




▲ 비행기



▲ 배

2 오늘날 생활 속에서 다음 의사소통 수단을 이용하는 까닭은 무엇인지 쓰시오.



▲ 전자 우편

2-② 이동과 의사소통 수단의 발달

3 오늘날 사람들이 이용하는 다음 이동 수단의 특징을 과학 기술의 발달과 관련지어 쓰시오.



▲ 비행기



▲ 고속선

4 다음은 옛날에 이용하였던 의사소통 수단입니다. 오늘날의 의사소통 수단과 비교하여 어떤 점이 불편했는지 쓰시오.



▲ 파발

2-③ 지역에 따라 달라지는 이동과 의사소통 수단

- 5 다음과 같이 이동 수단의 발달로 달라진 생활 모습을 두 가지 쓰시오.



▲ 가마



▲ 고속버스

- 6 오늘날 다음과 같은 의사소통 수단을 활용하여 할 수 있는 일을 한 가지만 쓰시오.



2-④ 미래의 이동과 의사소통 모습

- 7 다음과 같은 의사소통 수단의 문제점을 해결하기 위한 방법을 간단히 쓰시오.

주민 등록 번호, 이름, 주소 등을 다른 사람이 알게 되면 범죄에 이용되기도 합니다.

- 8 다음은 미래의 이동과 의사소통 모습을 그림으로 표현한 것입니다. 이와 관련하여 미래의 생활 모습을 상상하여 간단히 쓰시오.



3-① 우리 고장의 중심지

1 다음 (가), (나) 중 우리 지역 중심지의 모습을 찾아 기호를 쓰고, 그렇게 생각한 이유를 쓰시오.

(가)



(4)



(1) 기호 : ()

(2) 이윅 :

2 다음과 같이 우리 고장의 중심지를 견학할 때
주의할 점을 한 가지 쓰시오.



3-② 교통이 편리한 곳

3 다음 장소에 사람들이 많이 모이는 까닭은 무엇인지 쓰시오.

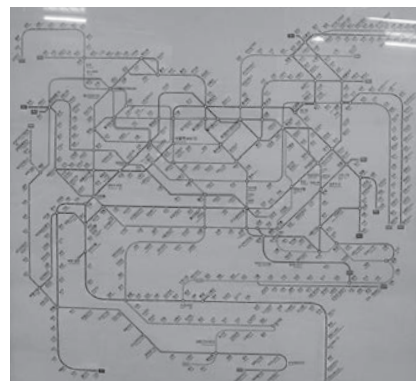


▲ 기차역



▲ 버스 터미널

4 다음과 같은 노선도를 통해 알 수 있는 점을 두 가지 쓰시오.



3-3 달라지는 중심지의 모습

- 5 우리 고장 중심지의 옛날과 오늘날 모습을 비교한 다음 사진을 보고, 달라진 점을 한 가지 쓰시오.



▲ 중심지의 옛날 모습



▲ 중심지의 오늘날 모습

- 6 다음 사진은 나루터가 없어지고 생긴 길고 넓은 다리의 모습입니다. 고장 중심지의 옛날과 오늘날 역할의 비슷한 점을 간단히 쓰시오.



3-4 새로 생긴 중심지

- 7 다음은 새로 생긴 중심지와 옛날부터 있던 중심지의 모습입니다. 두 중심지를 비교해 보고, 비슷한 점을 두 가지 쓰시오.



▲ 새로 생긴 중심지



▲ 옛날부터 있던 중심지

- 8 옛날부터 있던 중심지인 시장이 다음과 같이 편리하게 달라진 이유를 쓰시오.



중간학력평가

1-① 우리 고장의 위치 ~ 2-② 이동과 의사소통 수단의 발달

1 고장의 위치를 알아보는 방법으로 알맞은 것은 어느 것입니까? ()

- ① 백과사전을 찾아본다.
- ② 세계 지도를 살펴본다.
- ③ 다른 고장에 사는 친척에게 물어본다.
- ④ 친구들과 함께 고장을 직접 돌아다닌다.
- ⑤ 인터넷에서 고장의 항공 사진을 찾아 살펴본다.

2 다음에서 설명하는 것은 무엇인지 쓰시오.

사람이 살고 있는 곳이나 건물이 자리 잡고 있는 곳을 나타낸 것입니다.

()

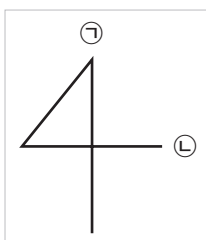
3 다음과 같은 그림지도를 통해 고장의 위치를 알아볼 때의 좋은 점을 쓰시오.



4 오른쪽 방위표의 ㉠, ㉡에 알맞은 방위를 쓰시오.

㉠ : ()

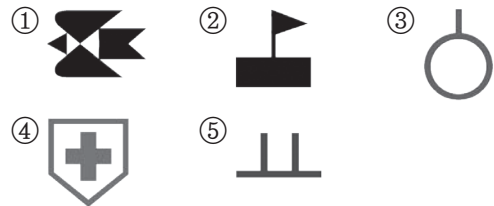
㉡ : ()



5 그림 기호에 대한 설명으로 바르지 않은 것은 어느 것입니까? ()

- ① 누구나 쉽게 알아볼 수 있다.
- ② 실제 모습보다 자세하게 나타낸다.
- ③ 그리는 사람에 따라 모양이 조금씩 다르다.
- ④ 건물의 생김새, 특징 등을 생각하여 알아보기 쉽게 만든다.
- ⑤ 실제 모습을 그대로 그리면 시간이 많이 걸리고 힘들기 때문에 그림 기호를 사용한다.

6 지도에 사용하는 기호 중 학교를 나타내는 것은 무엇입니까? ()



7 다음은 고장의 모습을 그림지도로 그리는 과정입니다. 순서대로 기호를 나열하시오.

- ㉠ 산과 강, 큰길 등을 그립니다.
- ㉡ 방위를 정하고 방위표를 그립니다.
- ㉢ 고장의 모습에 알맞게 색을 칠합니다.
- ㉣ 그림 기호 또는 기호를 이용하여 작은 건물 등을 그립니다.
- ㉤ 큰길을 따라 작은 길을 그리고, 동서남북에 위치하고 있는 주요 건물을 그립니다.

(→ → → →)

8 사람들이 만든 환경에 해당하는 것은 어느 것입니까? ()

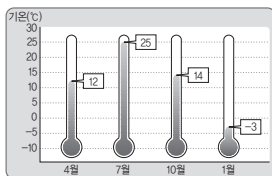
- ① 산 ② 들
③ 하천 ④ 바다
⑤ 아파트

9 다음과 같은 모습을 볼 수 있는 땅의 모양은 무엇입니까? ()

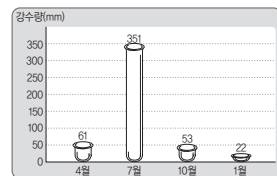
- 도로와 아파트, 큰 건물 등을 지어 사람들이 이용하고 있습니다.
- 도시의 주변이나 도시와 멀리 떨어진 곳에 서는 논농사를 짓기도 합니다.

- ① 산 ② 들
③ 하천 ④ 호수
⑤ 바다

10 다음은 경기도 수원시의 계절별 기온과 강수량을 나타낸 그래프입니다. 이 고장의 계절에 따른 날씨에 대한 설명으로 알맞은 것을 두 가지 고르시오. (,)



▲ 경기도 수원시의 기온



▲ 경기도 수원시의 강수량

- ① 7월에 가장 덥다.
② 10월에 가장 춥다.
③ 봄에 비가 가장 많이 온다.
④ 계절별로 기온과 강수량의 차이가 크다.
⑤ 기온이 낮은 겨울철에 강수량이 가장 많다.

11 다음은 산이 많은 지역에서 여름철에 비가 많이 내릴 때 일어나는 피해 모습입니다. 이와 같은 피해를 줄이기 위한 노력을 한 가지만 쓰시오.



12 다음과 같은 고장에 사는 사람들이 주로 하는 일은 어느 것입니까? ()



- ① 농사짓기 ② 고기잡이
③ 버섯 재배하기 ④ 회사에서 일하기
⑤ 과일 재배하기

13 다음 산업과 관련 있는 고장에 대한 설명으로 바른 것은 어느 것입니까? ()

어업, 관광업, 조선업

- ① 넓은 들판이 있다.
② 회사가 많이 있다.
③ 산으로 둘러싸여 있다.
④ 주변에 넓은 부두가 있다.
⑤ 높은 건물과 아파트가 있다.

14 오늘날 고장 사람들이 하는 일로 알맞지 않은 것은 어느 것입니까? ()

- ① 모터보트를 운전한다.
- ② 빨래터에서 빨래를 한다.
- ③ 기계를 이용하여 농사를 짓는다.
- ④ 트럭을 이용하여 물건을 옮긴다.
- ⑤ 다리미를 이용하여 다리미질을 한다.

15 다음 ㉠, ㉡에 들어갈 알맞은 말을 쓰시오.

사람이 오고 가거나 물건을 옮기는 것을 (㉠)(이)라고 하고, 사람들끼리 생각이 나 정보를 주고받는 것을 (㉡)(이)라고 합니다.

㉠ : (), ㉡ : ()

16 이동 수단을 이용하는 이유가 바르게 짝지어진 것은 어느 것입니까? ()

- ① 트럭 - 이사를 하기 위하여
- ② 자전거 - 먼 곳에 가기 위하여
- ③ 비행기 - 가까운 곳에 가기 위하여
- ④ 열차 - 강이나 바다를 건너기 위하여
- ⑤ 배 - 철도로 연결된 고장에 가기 위하여

17 다음과 같은 의사소통 수단이 필요한 까닭은 무엇인지 쓰시오.


편지, 전화, 인터넷, 팩시밀리

18 오늘날의 사람들이 이용하는 이동 수단을 두 가지 고르시오. (,)

- ① 가마 ② 뗏목
- ③ 자동차 ④ 인력거
- ⑤ 비행기

19 다음은 철도 이동 수단의 발달 과정입니다. 빈 칸에 들어갈 이동 수단으로 알맞은 것은 어느 것입니까? ()

() → 디젤 기관차 → 전기 기관차 → 자기 부상 열차



20 다음 보기 를 옛날과 오늘날의 의사소통 모습으로 분류하여 기호를 쓰시오.

보기

- ㉠ 사람이 직접 가서 소식을 전합니다.
- ㉡ 전자 우편으로 소식을 주고받습니다.
- ㉢ 연기나 횃불로 나라의 급한 일을 전합니다.
- ㉣ 팩시밀리로 그림, 문자 등을 주고받습니다.
- ㉤ 휴대 전화로 이동하면서 다른 사람과 통화를 합니다.

(1) 옛날 : ()

(2) 오늘날 : ()

- 1 다음 보기에서 이동 수단의 발달로 달라진 생활 모습이 바르게 짝지어진 것은 어느 것입니까? ()

보기

- ㉑ 지역 간의 교류가 줄어들었습니다.
- ㉒ 이동하는 데 시간이 오래 걸립니다.
- ㉓ 필요한 것을 쉽게 구할 수 있습니다.
- ㉔ 먼 곳까지 편하게 이동할 수 있습니다.

- ① ㉑, ㉒ ② ㉑, ㉔
- ③ ㉒, ㉓ ④ ㉒, ㉔
- ⑤ ㉓, ㉔

- 2 다음 사진과 같이 가파른 길을 오르내리면서, 수확한 농작물, 농기구나 비료를 운반해 주는 이동 수단은 무엇인지 쓰시오.



()

- 3 오늘날 새롭게 등장한 의사소통 수단의 발달로 인해 달라진 생활 모습으로 알맞은 것을 두 가지 고르시오. (,)

- ① 다양한 정보를 얻기가 어렵다.
- ② 멀리 떨어져 있으면 소식을 알기 어렵다.
- ③ 시간과 장소에 관계없이 소식을 주고받을 수 있다.
- ④ 사람이 직접 찾아가서 소식을 전하는 경우가 많아졌다.
- ⑤ 버스 정류장에서 버스 도착 예정 시간을 확인할 수 있다.

- 4 오늘날 우리가 이용하는 의사소통 수단이 없다면 우리의 생활은 어떻게 달라질지 쓰시오.

- 5 미래에 사용할 수 있는 이동 수단이나 의사소통 수단으로 알맞지 않은 것은 어느 것입니까? ()

- ① 접히는 전기 자동차
- ② 컴퓨터가 되는 안경
- ③ 생각대로 움직이는 휠체어
- ④ 연기나 햇불로 신호를 보내는 봉수
- ⑤ 함께 사용할 수 있는 투명한 모니터

- 6 다음과 같은 이동 수단의 문제점을 해결할 수 있는 방법으로 알맞은 것은 어느 것입니까? ()

도로 위에 자동차 수가 많아서 도로가 꽉 막힙니다.

- ① 자동차를 이용하지 않는다.
- ② 이동 수단을 더 많이 만든다.
- ③ 하늘을 나는 자동차를 개발한다.
- ④ 빠르게 달릴 수 있는 자동차를 개발한다.
- ⑤ 소음이 발생하지 않는 자동차를 개발한다.

- 7 사람들이 어떤 일이나 활동을 하기 위하여 많이 모이는 곳을 무엇이라고 합니까? ()

- ① 공장 ② 관광지
- ③ 유적지 ④ 중심지
- ⑤ 현장 체험 학습장

- 8 다음과 같은 고장의 중심지에 사람들이 많이 모이는 까닭은 무엇입니까? ()



▲ 시장

- ① 운동을 하기 위하여
- ② 문화생활을 하기 위하여
- ③ 필요한 물건을 사기 위하여
- ④ 공공 기관을 이용하기 위하여
- ⑤ 다른 고장으로 이동하기 위하여

- 9 사람들이 중심지에 모이는 이유에 대해 조사하려고 할 때, 가장 알맞은 방법은 어느 것입니까? ()

- ① 면담하기
- ② 백과사전 찾아보기
- ③ 사진 자료 활용하기
- ④ 고장의 자연환경 알아보기
- ⑤ 고장의 그림지도 이용하기

- 10 다음 두 고장 중심지의 모습을 보고, 공통점은 무엇인지 쓰시오.



▲ 대전광역시의 엑스포 과학 공원 주변



▲ 완도의 연안 여객선 터미널 주변

- 11 다음 빈칸에 들어갈 알맞은 말을 쓰시오.

약속 장소를 정할 때에는 사람들이 편리하게 이동할 수 있도록 ()이/가 편리해야 합니다.

()

- 12 사람들이 다른 고장으로 이동하기 위해 모이는 곳이 아닌 것은 어디입니까? ()



▲ 버스 터미널



▲ 기차역



▲ 버스 정류장



▲ 군청

- 13 다음은 우리 고장의 지하철 노선도를 그리는 과정입니다. 빈칸에 공통으로 들어갈 알맞은 말을 쓰시오.

우리 고장의 ()을/를 준비합니다.



()에 지하철역을 표시합니다.



지하철역을 서로 연결하여 노선도를 완성합니다.

()

- 14 다음 지하철 노선도에 표시된 ㉠ 주변이 우리 지역의 교통 중심지인 까닭을 간단히 쓰시오.



- 15 고장 중심지의 옛날 모습을 알아보는 방법으로 바른 것을 두 가지 고르시오. (,)

- ① 백과사전 찾아보기
- ② 인터넷으로 검색하기
- ③ 우리 고장의 그림지도 살펴보기
- ④ 우리 고장의 미래 모습 상상하기
- ⑤ 우리 고장에 오랫동안 사신 어른들께 여쭙어 보기

- 16 다음 사진 속 옛날과 오늘날의 중심지 모습을 보고, 달라진 점을 잘못 설명한 것은 어느 것입니까? ()



▲ 옛날의 중심지 모습



▲ 오늘날의 중심지 모습

- ① 체육관이 생겼다.
- ② 넓은 도로가 많이 생겨났다.
- ③ 아파트와 높은 건물이 많아졌다.
- ④ 좁고 구불구불한 길이 펼쳐져 있다.
- ⑤ 나루터 대신 강을 건널 수 있는 다리가 생겨났다.

- 17 다음에서 설명하는 고장의 이름은 무엇입니까? ()

전라북도 군산시에 있는 곳으로, 쌀을 싣어 나르던 항구여서 쌀을 저장하는 창고가 있었습니다.

- ① 하논 ② 새내 ③ 공항동
- ④ 남포동 ⑤ 장미동

- 18~19 다음 사진을 보고, 물음에 답하십시오.

(가)



(나)



- 18 위 (가), (나) 중 옛날부터 있던 중심지의 모습을 찾아 기호를 쓰시오. ()

- 19 위 두 중심지의 모습을 비교해 보고, 비슷한 점을 쓰시오.

- 20 고장에 기차역과 큰길이 생기면 어떤 변화가 생길지 바르게 설명한 것은 어느 것입니까? ()

- ① 교통이 불편해진다.
- ② 통신이 불편해진다.
- ③ 새로운 중심지가 만들어진다.
- ④ 사람들이 이용할 수 있는 시설이 줄어든다.
- ⑤ 기차를 이용하여 다른 고장으로 이동하는 사람들이 줄어든다.

8 홍수로 인한 피해를 극복하기 위한 노력으로 알맞지 않은 것은 어느 것입니까? ()

- ① 댐 건설 ② 나무 심기
③ 하천 정비 ④ 아파트 건설
⑤ 하천 주변에 독 쌓기

9 고장의 자연환경과 고장 사람들이 하는 일은 어떤 관계가 있는지 쓰시오.

10 다음 사진과 관련 있는 고장의 산업은 무엇입니까? ()



- ① 농업 ② 어업
③ 조선업 ④ 관광업
⑤ 풍력 에너지 산업

11 고장 사람들이 오른쪽 사진의 이동 수단을 이용하는 이유로 가장 알맞은 것은 어느 것입니까? ()



▲ 트럭


- ① 학교에 갔다가 오기 위하여
② 무거운 물건을 옮기기 위하여
③ 다른 나라를 여행하기 위하여
④ 바다를 건너 섬에 가기 위하여
⑤ 동네의 가까운 곳에 가기 위하여

12 의사소통 수단이 필요한 경우는 언제입니까? ()

- ① 학교에 갔다가 올 때
② 무거운 물건을 옮길 때
③ 다른 고장으로 여행을 갈 때
④ 멀리 떨어져 사는 친구와 소식을 주고받을 때
⑤ 다른 고장에서 만들어진 물건을 직접 사 올 때

13 다음 보기 는 옛날 사람들이 이용한 이동 수단입니다. 땅 위에서 이용한 이동 수단을 모두 골라 기호를 쓰시오.

보기



()

14 의사소통 수단의 발달에 따라 달라진 생활 모습으로 알맞지 않은 것은 어느 것입니까? ()

- ① 회사 일을 집에서도 할 수 있게 되었다.
② 생활에 필요한 정보를 쉽게 찾을 수 있다.
③ 다른 고장을 편리하게 오고 갈 수 있게 되었다.
④ 시장에 직접 가지 않고도 인터넷을 이용해 물건을 살 수 있다.
⑤ 화상 전화로 멀리 떨어진 곳에 있는 가족과 얼굴을 보면서 대화를 할 수 있다.

- 15 다음과 같은 의사소통 수단의 문제점을 해결할 수 있는 방법으로 알맞은 것은 어느 것입니까? ()

다른 사람의 개인 정보를 이용한 범죄가 늘어나고 있습니다.

- ① 인터넷을 사용하지 않는다.
- ② 다른 사람들과 아이디를 함께 사용한다.
- ③ 아이디와 비밀번호를 다른 사람에게 공개한다.
- ④ 인터넷 대신 전화와 같은 다른 의사소통 수단을 이용한다.
- ⑤ 인터넷에 접속할 때 눈동자나 지문 등을 활용한 장치를 개발한다.

- 16 고장의 중심지가 아닌 곳은 어디입니까? ()

- ① 논밭이 넓게 펼쳐진 곳
- ② 문화생활을 할 수 있는 곳
- ③ 필요한 물건을 살 수 있는 곳
- ④ 다른 고장으로 편리하게 이동할 수 있는 곳
- ⑤ 시청이나 군청과 같은 공공 기관을 손쉽게 이용할 수 있는 곳

- 17 다음과 같은 고장의 중심지에 사람들이 많이 모이는 까닭은 무엇인지 쓰시오.

버스 터미널, 기차역, 버스 정류장

- 18 다음 노선도를 통해 알 수 있는 것을 두 가지 고르시오. (,)



- ① 역의 이름
- ② 지하철 요금
- ③ 교통 중심지의 위치
- ④ 환승할 때 기다리는 시간
- ⑤ 역과 역 사이의 정확한 거리

- 19 우리들이 바라는 중심지의 미래 모습을 발표해 보았습니다. 잘못 이야기한 어린이는 누구인지 쓰시오.

근석 : 공원이 곳곳에 있었으면 좋겠어요.
 신혜 : 자전거 도로가 더 많이 생겼으면 좋겠어요.
 민호 : 자연을 훼손하더라도 높은 건물이 많아졌으면 좋겠어요.
 수지 : 장애인들이 편리하게 사용할 수 있는 시설이 많이 갖추어졌으면 좋겠어요.

- 20 시장 주변에 지하철역이 새로 생길 때의 좋은 점으로 바른 것은 어느 것입니까? ()

- ① 시장 주변의 공기가 깨끗해진다.
- ② 사람들이 더 쉽게 시장에 올 수 있게 된다.
- ③ 상인들이 물건을 비싸게 팔 수 있게 된다.
- ④ 물건을 만든 곳을 정확하게 알 수 있게 된다.
- ⑤ 지하철역을 이용하는 사람들이 줄어들어 조용해진다.

정답과 해설

꼭지시험

1 우리가 살아가는 곳

1 우리 고장의 위치

2쪽

- | | | |
|----------------|---------|--------------|
| 1 위치 | 2 위치 | 3 ㉠ 앞쪽, ㉡ 뒤쪽 |
| 4 높은 곳에서 내려다보면 | 5 항공 사진 | |
| 6 주소 | 7 지도 | 8 지도 |
| 9 넓은 | 10 등대 | |

2 지도에 쓰이는 약속

3쪽

- | | | |
|-------|--------------|---------|
| 1 방위 | 2 ㉠ 북쪽, ㉡ 남쪽 | |
| 3 방위 | 4 북쪽 | 5 그림 기호 |
| 6 색 | 7 초록색 | 8 기호 |
| 9 우체국 | 10 방위 | |

3 우리 고장의 모습

4쪽

- | | | |
|--------|-------|--------------|
| 1 자연환경 | 2 다리 | 3 산 |
| 4 하천 | 5 강수량 | 6 ㉠ 여름, ㉡ 겨울 |
| 7 여름 | 8 겨울 | 9 사방 공사 |
| 10 홍수 | | |

4 우리 고장 사람들이 하는 일

5쪽

- | | | |
|--------|--------------|-------|
| 1 들 | 2 산 | 3 바다 |
| 4 자연환경 | 5 산업 | 6 조선소 |
| 7 산업 | 8 ㉠ 가축, ㉡ 기계 | |
| 9 트럭 | 10 관광업 | |

2 이동과 의사소통

1 생활 속 이동과 의사소통 수단

6쪽

- | | | |
|--------|---------------|--------|
| 1 이동 | 2 이동 수단 | 3 물건 |
| 4 트럭 | 5 친구나 친척을 만나기 | |
| 6 의사소통 | 7 화상 전화 | 8 의사소통 |
| 9 정보 | 10 관계 | |

2 이동과 의사소통 수단의 발달

7쪽

- | | | |
|----------|--------|----------|
| 1 가마 | 2 돛단배 | 3 전기 기관차 |
| 4 열기구 | 5 이동 | 6 봉수 |
| 7 파발 | 8 의사소통 | 9 팩시밀리 |
| 10 휴대 전화 | | |

3 지역에 따라 달라지는 이동과 의사소통 수단

8쪽

- | | | |
|----------|--------|----------|
| 1 소달구지 | 2 이동 | 3 인터넷 쇼핑 |
| 4 화상 회의 | 5 모노레일 | 6 널배 |
| 7 수상 택시 | 8 케이블카 | 9 마을 방송 |
| 10 화상 수업 | | |

4 미래의 이동과 의사소통 모습

9쪽

- | | | |
|---------------|---------|--------|
| 1 이동 | 2 교통 정체 | 3 의사소통 |
| 4 휴대 전화 | 5 통신 요금 | 6 월체어 |
| 7 주차 문제 | 8 스마트폰 | 9 미래 |
| 10 하늘을 나는 자동차 | | |

3 사람들이 모이는 곳

1 우리 고장의 중심지

10쪽

- | | | |
|-------------|------------|---------|
| 1 중심지 | 2 시외버스 터미널 | |
| 3 서류 | 4 병원 | 5 견학 |
| 6 목적 | 7 면담 | 8 안내 자료 |
| 9 엑스포 과학 공원 | 10 다릅니다 | |

2 교통이 편리한 곳

11쪽

- | | | |
|-----------|--------------|---------|
| 1 이동 | 2 교통 | 3 기차역 |
| 4 중심지 | 5 버스 터미널 | 6 고속 국도 |
| 7 노선도 | 8 고속 열차(KTX) | |
| 9 지도(백지도) | 10 중심지 | |

3 달라지는 중심지의 모습

12쪽

- | | | |
|-------|--------------|---------|
| 1 옛날 | 2 교통 | 3 항공 사진 |
| 4 어른 | 5 많이 변화하였습니다 | |
| 6 나룻배 | 7 시간 | 8 이름 |
| 9 남포동 | 10 하논 | |

4 새로 생긴 중심지

13쪽

- | | |
|---------------|--------|
| 1 옛날부터 있던 중심지 | 2 시장 |
| 3 새로 생긴 중심지 | 4 교통 |
| 5 인터넷 | 6 통신 |
| 8 옛날 | 9 골목길 |
| 7 중심지 | 10 쉬워질 |

유형문제

1 우리가 살아가는 곳

1 우리 고장의 위치

14쪽

1 위치	2 ㉔	3 ㉕
4 지도	5 ㉔	6 ㉕

- 무엇이 어디에 있는지를 나타내는 것을 위치라고 합니다.
- 높은 곳에서 내려다보거나 항공 사진, 주소, 지도를 이용하면 우리 고장의 위치를 알 수 있습니다.
- 주소를 알면 어떤 곳의 위치는 알 수 있지만, ① 고장의 역사나 ② 자연환경, ③ 고장 사람들의 생김새, ④ 고장의 모습을 한눈에 쉽게 알 수는 없습니다.
- 지도를 이용하면 우리나라에서 우리 고장의 위치를 한눈에 쉽게 알 수 있습니다.
- 지도에는 우리 집이나 고장의 위치 등이 나타나 있습니다.
- 우리 고장이 우리나라에서 어디에 위치하는지 살펴보려면 넓은 지역을 보여 주는 지도가 필요합니다.

2 지도에 쓰이는 약속

15쪽

1 방위	2 ㉔	3 ㉕
4 ㉕	5 기호	6 ㉕

- 방위는 어떤 장소의 위치를 찾을 때 중요한 기준이 됩니다.
- 방위표의 위쪽은 북쪽입니다.
- 그림 기호는 땅의 모양이나 건물의 모습을 알기 쉽게 나타낸 것입니다.
- 보는 사람에 따라 기호의 뜻이 달라지면 지도를 읽을 때 불편하므로, 지도에 사용하는 기호는 사람들이 약속하여 미리 정하여 놓았습니다.
- 제시된 기호는 병원을 나타냅니다.

3 우리 고장의 모습

16쪽

1 ㉔	2 ㉕	3 ㉕ 여름, ㉔ 겨울
4 ㉕	5 ㉕, ㉔	

- ㉔ 아파트는 사람들이 만든 환경에 해당합니다.
- ㉕는 들이 펼쳐져 있는 곳을 이용하는 모습입니다.
- 여름에는 기온이 높고 강수량이 많으며, 겨울에는 기온이 낮고 강수량이 적습니다.
- ㉕, ㉔, ㉔는 겨울철에 볼 수 있는 생활 모습이고, ㉕는 가을철에 볼 수 있는 생활 모습입니다.
- 사방 공사를 하거나 나무를 많이 심으면 산사태나 눈사태로 인한 피해를 예방할 수 있습니다.

4 우리 고장 사람들이 하는 일

17쪽

1 ㉕	2 산업	3 ㉔
4 ㉔	5 ㉕	6 ㉕, ㉔

- ㉕, ㉕는 바다, ㉔, ㉔는 들에 사는 사람들이 주로 하는 일입니다.
- 고장에서 발달한 산업은 그 고장 사람들이 하는 일에 영향을 줍니다.
- 커다란 배를 만들거나 조립하는 일을 조선업이라고 합니다.
- ㉕ 옛날에는 인두를 이용하여 다리미질을 했지만 오늘날에는 세탁소에서 다리미질을 합니다.
- 오늘날에는 트럭을 이용하여 물건을 옮깁니다.
- 고장 사람들이 하는 일은 고장의 자연환경, 발달한 산업 등의 영향을 받습니다.

2 이동과 의사소통

1 생활 속 이동과 의사소통 수단

18쪽

1 이동	2 ㉕	3 ㉔
4 ㉔	5 ㉔	6 의사소통



- 1 자동차, 버스, 배, 비행기와 같은 이동 수단을 이용하여 사람이 오고 가거나 물건을 다른 곳으로 옮기는 것을 이동이라고 합니다.
- 2 비행기를 이용하면 먼 거리를 빠르게 이동할 수 있습니다.
- 3 ④는 의사소통 수단을 이용하는 까닭입니다.
- 4 ② 버스는 이동 수단입니다.
- 5 화상 전화는 얼굴을 보면서 통화할 수 있습니다.
- 6 의사소통 수단은 멀리 있는 사람과 소식을 자유롭게 주고받기 위하여 필요합니다.

2 이동과 의사소통 수단의 발달

19쪽

- 1 ⑤ 2 ㄹ
3 ㄹ → ㄴ → ㄷ → ㄱ 4 ㉓, ㉔
5 휴대 전화

- 1 옛날 사람들이 땅 위에서 물건을 옮길 때 이용한 이동 수단에는 소달구지, 지게 등이 있습니다.
- 2 ㄱ)는 쾌속선, ㄴ)는 뚝단배, ㄷ)는 증기선, ㄹ)는 뗏목입니다.
- 3 물 위에서 이용한 이동 수단은 ‘뗏목 → 뚝단배 → 증기선 → 쾌속선’의 순서로 발달하였습니다.
- 4 봉수는 옛날에 연기 또는 횃불로 나라의 위급한 일을 연락하던 의사소통 수단입니다. ①, ⑤는 파발에 대한 설명입니다.
- 5 휴대 전화는 이동하면서 다른 사람과 통화를 할 수 있습니다.

3 지역에 따라 달라지는 이동과 의사소통 수단

20쪽

- 1 ㉒, ㉓ 2 ㉒ 3 ㉒, ㉓
4 뉘배 5 ㉒

- 1 ① 이동 수단의 발달로 지역 간의 교류가 늘어나게 되었습니다. ④, ⑤는 의사소통 수단의 발달에 따라 달라진 생활 모습입니다.

- 2 ② 예전에는 휴대 전화로 목소리와 문자 메시지만 주고받을 수 있었지만 오늘날에는 그림, 정보도 주고받는 등 더 많은 일들을 할 수 있게 되었습니다.
- 3 ㉒ 케이블카는 산이 있는 지역에서 이동할 수 있는 이동 수단이고, ㉓ 모노레일은 가파른 길을 오르내리면서, 수확한 농작물, 농기구나 비료 등을 운반하는 이동 수단입니다.
- 4 뉘배는 갯벌에서 조개나 낙지를 잡아 운반하거나 이동할 때 이용합니다.
- 5 깊은 산 속에서는 휴대 전화로 소식을 주고받기 어려워 무전기를 이용합니다.

4 미래의 이동과 의사소통 모습

21쪽

- 1 ㉒ 2 ㉓ 3 ㉓
4 ㉒, ㉓

- 1 ㉒, ㉓은 의사소통 수단의 발달로 인해 생기는 문제점입니다.
- 2 게임이나 인터넷 중독, 인터넷상의 욕설 및 비방 등은 오늘날 의사소통 수단의 문제점입니다.
- 3 접히는 전기 자동차는 전기의 힘으로 움직이기 때문에 환경을 보호할 수 있고, 접을 수 있기 때문에 주차 문제를 해결할 수 있습니다.
- 4 미래에는 ①, ④ 고장 간의 교류가 더욱 많아질 것이며, ② 언제 어디서든 짧은 시간 안에 다양한 정보를 얻을 수 있을 것입니다.

3 사람들이 모이는 곳

1 우리 고장의 중심지

22쪽

- 1 중심지 2 ㉓ 3 ㉔
4 ㉒ 5 ㉒, ㉓

- 1 중심지는 어떤 일이나 활동의 중심이 되는 곳으로, 생활하는 데 필요한 것을 구하거나 이용하기 위하여 사람들이 많이 모입니다.

- 2 중심지는 사람들이 많이 모여 있어서 복잡합니다.
- 3 우체국은 편지나 물건을 보내기 위하여 가는 곳입니다.
- 4 ① 보고서는 견학한 후에 작성합니다.
- 5 고장마다 중심지를 대표하는 시설과 사람들이 중심지에 모이는 이유는 다릅니다.

2 교통이 편리한 곳

23쪽

- 1 ④ 2 ①, ⑤ 3 ②
4 ㉠

- 1 버스 터미널은 고속버스나 시외버스를 타고 내리는 곳으로, 고속 국도와 국도를 통해 다른 지역으로 이동할 때 이용합니다.
- 2 사람들이 이동하기 편리한 기차역이나 버스 터미널 주변은 고장의 중심지가 됩니다.
- 3 노선도를 통해 역의 이름과 어느 역에서 어느 역으로 연결되어 있는지, 가야 할 역까지 몇 정거장이 남았는지 등을 알 수 있습니다.
- 4 지하철 노선이 여러 개일 경우 노선도가 서로 겹쳐지는 곳이 중심지가 됩니다.

3 달라지는 중심지의 모습

24쪽

- 1 ① 2 ③ 3 교통
4 ④

- 1 우리 고장 중심지의 옛날 모습을 알아보는 방법에는 우리 고장의 옛날 사진 찾아보기, 우리 고장에 오랫동안 사신 어른들께 여쭙어 보기, 인터넷 검색으로 알아보기 등이 있습니다.
- 2 오늘날의 중심지 모습은 옛날과 비교하여 아파트와 높은 건물, 넓은 도로 등이 많이 생겼습니다.
- 4 미래의 중심지는 편리하지만 자연환경도 생각하고, 여러 사람이 함께 모여 이야기나 운동을 할 수 있는 곳이 되기를 바랍니다.

4 새로 생긴 중심지

25쪽

- 1 ㉠ 2 ①, ⑤ 3 교통
4 ③ 5 석탄 박물관

- 1 새로 생긴 중심지는 큰 도로에 차가 많이 다니고, 크고 높은 건물이 많습니다.
- 2 새로 생긴 중심지와 옛날부터 있던 중심지는 사람이 많고 차가 많이 다니며, 사람들이 이용하는 건물들이 모여 있다는 점이 비슷합니다.
- 3 교통이 발달하면서 그곳을 중심으로 새로운 중심지가 생겨납니다.
- 4 시장이 깨끗해지고 편리해지면 사람들이 많이 오기 때문에 장사가 더 잘됩니다.

실전 서술형·논술형 문제

우리가 살아가는 곳

26쪽

- 1 ㉠ 높은 곳에서 내려다본다.
제시된 그림은 고장의 높은 곳에서 내려다보면서 고장의 위치를 알아보는 방법입니다.
- 2 (1)㉠ (2)㉠ 우리 고장이 우리나라에서 어디에 위치하는지 살펴보려면 넓은 지역을 보여 주는 지도가 필요하기 때문이다.
넓은 지역을 보여 주는 지도를 이용하면 우리 고장이 우리나라에서 어디에 위치하는지 알 수 있습니다.
- 3 ㉠ 땅 위의 모습을 간단하게 나타낼 수 있기 때문이다. / 누구나 쉽게 알 수 있기 때문이다. / 실제 모습을 그대로 나타내려면 어렵기 때문이다.
지도에 사용하는 기호는 사람들이 약속하여 미리 정하여 놓은 것으로, 그림 기호보다 좀 더 간단합니다.
- 4 ㉠ 방위를 정하고 방위표를 그리며, 산과 강, 큰길 등을 먼저 그린다.
그림지도를 그릴 때에는 가장 먼저 방위를 정하고, 산과 강, 큰길, 작은 길, 주요 건물 등을 그려 넣은 후 색을 칠하여 완성합니다.



- 5 ㉠ 공원이거나 등산길을 만들어 이용한다. / 약초를 캐거나 벌을 기르기도 한다. / 버섯을 재배하기도 한다.
산이 있는 곳에서는 공원, 등산길, 과수원 등을 볼 수 있습니다.
- 6 (1) 여름 (2) ㉠ 하천 주변을 정비한다. / 댐을 만든다.
7월(여름철)에 비가 집중적으로 내려 하천 주변 지역에서는 홍수로 인한 피해를 입기도 합니다.
- 7 ㉠ 고장의 자연환경에 따라 사람들이 하는 일이 서로 다르기 때문이다. / 고장의 자연환경은 사람들이 하는 일에 많은 영향을 주기 때문이다.
- 8 ㉠ 옛날에는 고기잡이 등 어업이 발달하였으나, 오늘날에는 대게로 유명해지면서 다른 고장 사람들이 많이 찾아와 관광업도 발달하였다.
산업의 발달은 고장 사람들이 하는 일과 생활 모습에 영향을 줍니다.

2 이동과 의사소통

28쪽

- 1 ㉠ 필요한 물건을 구하기 위하여 / 출·퇴근을 하기 위하여 / 친구나 친척을 만나기 위하여 / 무거운 짐을 옮기기 위하여 / 학교에 갔다가 오기 위하여
이동은 오고 가거나 물건을 옮기는 것을 말하며, 이동 수단에는 버스, 승용차, 지하철, 배, 비행기 등이 있습니다.
- 2 ㉠ 친구에게 편지를 보낼 때 이용한다.
전자 우편은 인터넷을 이용하는 의사소통 수단으로, 빠르고 손쉽게 필요한 정보를 수집할 수 있고, 소식을 주고받을 수 있습니다.
- 3 ㉠ 과학 기술의 발달로 오늘날의 이동 수단은 옛날에 비하여 크기가 커지고 속도도 빨라지면서 짧은 시간 안에 먼 곳까지 많은 사람과 물건을 실어 나를 수 있게 되었다. 오늘날의 이동 수단은 동시에 많은 사람이 함께 이용할 수 있고, 먼 거리까지 편리하고 빠르게 이동할 수 있다는 특징이 있습니다.
- 4 ㉠ 한 번에 많은 소식을 전하기 어렵다. / 시간이 많이 걸린다. / 먼 곳에 있는 사람과 자주 연락을 주고받기 어렵다.

옛날 사람들은 소식을 전하기 위하여 직접 가거나 연기나 불로 신호를 보냈기 때문에 시간이 많이 걸리고 소식을 자세히 전하기 어려웠습니다.

- 5 ㉠ 먼 곳까지 편하게 이동할 수 있다. / 목적지까지 빠르게 이동할 수 있다. / 다른 지역이나 고장뿐만 아니라 세계 여러 곳을 여행할 수 있다. / 지역 간의 교류가 늘어나고 필요한 것을 쉽게 구할 수 있다. / 동시에 많은 사람이 이동할 수 있다.
이동 수단의 발달로 더 많은 사람을 만날 수 있게 되었고, 더 많은 일들을 할 수 있게 되었습니다.
- 6 ㉠ 인터넷 통신망을 이용하여 물건을 살 수 있다. / 먼 거리에 떨어진 사람들과 화면을 보면서 회의를 할 수 있다.
- 7 ㉠ 노동자나 지문 등을 활용한 개인 정보 보호 장치를 마련한다.
안전한 인터넷 이용을 위해 개인만의 고유한 특징을 인식하는 장치를 개발합니다.
- 8 ㉠ 자동차가 하늘을 날 수 있을 것이다. / 누구나 우주 여행을 갈 수 있을 것이다.
미래에는 날아다니는 자동차, 컴퓨터 시계, 휴대가 가능한 투명한 모니터 등을 사용할 수 있게 될 것입니다.

3 사람들이 모이는 곳

30쪽

- 1 (1) ㉠ (2) ㉠ 중심지는 사람들이 어떤 일이나 활동을 하기 위하여 많이 모이는 곳이기 때문이다.
(㉠)는 논, (㉠)는 우체국의 모습입니다.
- 2 ㉠ 친구들과 함께 다닌다. / 보호자와 함께 견학을 한다. / 차가 다니는 곳에서는 주위를 잘 살핀다.
즐겁고 안전한 견학을 하기 위해서는 견학을 계획할 때 미리 주의할 점을 알아 둡니다.
- 3 ㉠ 교통이 편리하기 때문이다.
기차역, 버스 터미널, 지하철역 등과 같이 편리하게 갈 수 있는 곳에 사람들이 많이 모입니다.
- 4 ㉠ 역의 이름을 알 수 있다. / 어느 역에서 어느 역으로 연결되어 있는지 알 수 있다. / 가야 할 역까지 몇 정거장이 남았는지 알 수 있다. / 어디에서 갈아타야 하는지 알 수 있다.

제시된 지하철 노선도는 서로 만나기 때문에 어디에서 갈아타야 하는지도 알 수 있습니다.

- 5 예 아파트와 높은 건물이 많아졌다. / 넓은 도로가 많이 생겨났다. / 상가들이 들어섰다.
오늘날의 중심지 모습은 옛날과 비교하여 아파트와 높은 건물, 넓은 도로 등이 많이 생겼습니다.
- 6 예 옛날의 나루터와 오늘날의 길고 넓은 다리는 모두 우리 고장과 다른 고장을 연결해 주는 역할을 한다.
고장 중심지의 역할은 옛날과 같기도 하고, 시간이 지남에 따라 달라지기도 합니다.
- 7 예 사람이 많고 차가 많이 다닌다. / 사람들이 이용하는 건물들이 모여 있다.
새로 생긴 중심지와 옛날부터 있던 중심지는 사람이 많고 차가 많이 다니며, 사람들이 이용하는 건물들이 모여 있다는 점이 비슷합니다.
- 8 예 사람들이 대형 마트에 더 많이 가기 때문이다. / 시장이 좋아야 사람들이 많이 가기 때문이다.
시장이 깨끗하고 편리해지면 사람들이 더 오기 때문에 장사가 잘됩니다.

중간·기말 학력평가

중간 학력평가

32~34 쪽

- 1 ⑤ 2 주소
- 3 예 고장의 위치를 한눈에 볼 수 있다. / 다른 장소나 건물을 찾아갈 수 있다.
- 4 ㉠ 북쪽, ㉡ 동쪽 5 ②
- 6 ② 7 ㉢ → ㉠ → ㉡ → ㉣ → ㉤
- 8 ⑤ 9 ② 10 ①, ④
- 11 예 나무를 많이 심는다. / 사방 공사를 한다.
- 12 ② 13 ④ 14 ②
- 15 ㉠ 이동, ㉡ 의사소통 16 ①
- 17 예 다른 사람들과 소식을 주고받기 위하여 필요하다. / 필요한 정보를 손쉽게 구하기 위하여 필요하다.
- 18 ③, ⑤ 19 ②
- 20 (1) ㉠, ㉡ (2) ㉢, ㉣, ㉤

- 1 항공 사진은 비행기에서 땅의 모습을 찍은 사진입니다.
- 2 주소는 어떤 곳의 위치를 나타내는 것으로, 주소를 알면 그곳의 위치를 알고 찾아갈 수 있습니다.
- 3 지도는 위에서 내려다본 실제 땅의 모습을 일정하게 줄여서 나타낸 그림으로, 지도를 이용하면 우리 고장의 위치를 잘 알 수 있습니다.
- 4 방위표의 위쪽은 북쪽이고, 오른쪽은 동쪽입니다.
- 5 ② 그림 기호는 땅의 모양이나 건물의 모습을 알기 쉽게 나타낸 것입니다.
- 6 ①은 우체국, ③은 과수원, ④는 병원, ⑤는 논을 나타내는 기호입니다.
- 7 그림지도를 그릴 때에는 가장 먼저 방위를 정하고, 산과 강, 큰길, 주요 건물, 작은 길, 작은 건물 등을 그려 넣은 후 색을 칠하여 완성합니다.
- 8 ⑤ 아파트는 사람들이 만든 환경입니다. ①, ②, ③, ④는 자연환경에 해당합니다.
- 9 들이 펼쳐진 곳에서는 논과 밭, 공장, 도로, 학교, 큰 건물 등을 볼 수 있습니다.
- 10 ② 1월(-3℃)에 가장 춥고, ③, ⑤ 여름(7월)에 강수량이 가장 많습니다.
- 11 산이 많은 지역에서는 여름철에 비가 많이 내릴 때 산사태가 발생하기도 합니다.
- 12 ①, ④는 들이 있는 곳에 사는 사람들이 주로 하는 일이고, ③, ⑤는 산이 있는 곳에 사는 사람들이 주로 하는 일입니다.
- 13 어업, 관광업, 조선업 등은 바다가 펼쳐져 있는 고장에서 볼 수 있는 산업입니다.
- 14 ② 오늘날에는 팔레터에서 팔래를 하는 대신 세탁소에서 팔래를 합니다.
- 15 이동 수단에는 자전거, 열차, 버스, 비행기 등이 있고, 의사소통 수단에는 편지, 휴대 전화, 인터넷 등이 있습니다.



- 16 ② 자전거는 가까운 곳에 가기 위해, ③ 비행기는 다른 나라를 여행하기 위해, ④ 열차는 철도로 연결된 고장을 가기 위해, ⑤ 배는 강이나 바다를 건너기 위해 주로 이용합니다.
- 18 ① 가마, ② 뗏목, ④ 인력거는 옛날의 이동 수단입니다.
- 19 ①은 자기 부상 열차, ②는 증기 기관차, ③은 디젤 기관차, ④는 전기 기관차입니다.
- 20 옛날에는 소식을 전하기 위해 사람이 직접 가거나 연기나 횃불로 신호를 보냈고, 오늘날에는 기계의 힘을 이용하거나 전기를 이용한 신호를 이용합니다.

기말 학력평가

중간 이후 범위

35~37 쪽

- 1 ⑤ 2 모노레일 3 ③, ⑤
- 4 예 전하고 싶은 소식을 제때 전할 수 없다. / 소식을 제때 알지 못해 많은 일을 할 수 없다.
- 5 ④ 6 ③ 7 ④
- 8 ③ 9 ①
- 10 예 건물이 많다. / 사람들이 많이 모인다.
- 11 교통 12 ④ 13 백지도
- 14 예 여러 노선의 지하철이 지나가는 곳이기 때문이다. / 중심지는 사람들이 모이기 편리한 역 주변인 경우가 많기 때문이다. / 여러 노선이 겹쳐지는 곳이기 때문이다.
- 15 ②, ⑤ 16 ④ 17 ⑤
- 18 나
- 19 예 사람들이 많고 차가 많이 다닌다. / 사람들이 이용하는 건물들이 모여 있다.
- 20 ③

- 1 이동 수단의 발달로 ㉠ 지역 간의 교류가 늘어나고, ㉡ 목적지까지 빠르게 이동할 수 있게 되었습니다.
- 2 울릉도는 높고 경사진 곳에 발이 많기 때문에 트럭이 다니기 어려워서 모노레일을 이용합니다.

- 3 오늘날에는 의사소통 수단의 발달로 휴대 전화, 인터넷, 편지, 전자 우편 등 다양한 방법으로 의사소통하는 것이 가능해졌습니다.
- 4 의사소통 수단이 없다면 소식을 전하기 위해 직접 가야 하고, 정보를 수집하기 어려워질 것입니다.
- 5 ④ 봉수는 옛날에 연기나 횃불로 신호를 보내서 나라의 급한 소식을 전했던 의사소통 수단입니다.
- 6 도로 위에서는 자동차로 달리다가 필요한 상황이 되면 비행기로 변신하는 자동차를 개발합니다.
- 7 고장의 중심지에는 군청이나 구청, 시외버스 터미널, 시장 등 여러 가지 시설이 모여 있습니다.
- 8 시장, 백화점, 대형 마트 등은 생활에 필요한 물건을 살 수 있는 곳입니다.
- 9 면담은 알고 싶은 것을 사람들에게 직접 물어보는 것을 말합니다.
- 10 각 고장에 있는 중심지의 모습은 다양하지만, 사람들이 많이 모이고 복잡하다는 공통점이 있습니다.
- 11 고장의 중심지는 교통이 편리하여 사람들이 찾아오기 쉽습니다.
- 12 ④ 군청은 필요한 서류를 받기 위해 사람들이 많이 모이는 곳입니다.
- 13 백지도는 지역의 경계, 강과 호수의 경계만을 표시한 지도로, 백지도 위에 자신이 필요로 하는 것만을 나타낼 수 있습니다.
- 14 중심지는 사람들이 모이기 편리한 역 주변인 경우가 많으므로 지도에 그려진 버스나 지하철 노선도를 보고 짐작해 볼 수 있습니다.
- 15 우리 고장 중심지의 옛날 모습을 알아보는 방법에는 인터넷으로 검색하기, 우리 고장에 오랫동안 사신 어른들께 여쭙어 보기, 우리 고장의 옛날 사진 찾아보기 등이 있습니다.
- 16 ④는 옛날 중심지의 모습입니다.
- 17 고장의 이름을 통해 고장의 옛날 모습과 역할을 알 수 있습니다.

- 18 옛날부터 있던 중심지에는 좁은 도로와 낮은 건물이 많습니다.
- 19 새로 생긴 중심지와 옛날부터 있던 중심지는 사람이 많고 차가 많이 다니며, 사람들이 이용하는 건물들이 모여 있다는 점이 비슷합니다.
- 20 기차역이 생기고 큰길이 만들어지는 등 교통이 발달하면서 새로운 중심지가 생겨납니다.

기말 학력평가

전 범위

38~40쪽

- | | | |
|---|-------|--------|
| 1 ㉠ | 2 지도 | 3 ㉡ |
| 4 북 | 5 ㉢ | 6 ㉠, ㉡ |
| 7 예 두꺼운 옷을 입고 목도리를 한다. / 난로를 사용한다. / 스키나 눈썰매를 탄다. | | |
| 8 ㉡ | | |
| 9 예 고장의 자연환경에 따라 사람들이 하는 일이 서로 다르다. / 고장의 자연환경은 사람들이 하는 일에 많은 영향을 준다. | | |
| 10 ㉢ | 11 ㉡ | 12 ㉡ |
| 13 ㉠, ㉡ | 14 ㉢ | 15 ㉢ |
| 16 ㉠ | | |
| 17 예 교통이 편리하여 사람들이 모이기 쉽기 때문이다. | | |
| 18 ㉠, ㉢ | 19 민호 | 20 ㉡ |

- 1 높은 곳에서 내려다보면 고장의 위치를 알 수 있습니다.
- 2 지도를 이용하면 우리 집이나 고장의 위치를 한 눈에 볼 수 있고, 다른 장소나 건물을 쉽게 찾아갈 수 있습니다.
- 3 지도에서는 동서남북을 이용하여 위치를 나타내는데, 이것을 방위라고 합니다. ㉡ 방위표가 없는 경우에는 지도의 위쪽이 북쪽, 아래쪽이 남쪽이 됩니다.
- 4 나침반을 평평한 곳에 놓았을 때 빨간 바늘이 가리키는 쪽이 북쪽입니다.
- 5 그림지도에는 산과 강, 큰길, 작은 길, 주요 건물 등을 그려 넣습니다.

- 6 자연환경은 사람이 만든 것이 아닌 자연적인 것입니다. ㉠ 산, ㉡ 바다는 자연환경이고, ㉢ 도로, ㉣ 아파트는 사람들이 만든 환경입니다.
- 7 제시된 사진은 겨울철의 모습입니다. 겨울철에는 추위를 이겨 내기 위해 두꺼운 옷을 입거나 난로를 켜습니다.
- 8 ㉡ 아파트 건설로 자연환경이 훼손되면서 홍수의 피해가 더욱 커질 수 있습니다.
- 9 고장의 자연환경에 따라 사람들이 하는 일이 달라집니다.
- 10 풍력 에너지 산업은 자연적으로 부는 바람으로 에너지를 얻는 산업입니다.
- 11 이사를 하거나 다른 곳으로 무거운 짐을 옮길 때 트럭을 이용합니다.
- 12 의사소통 수단은 다른 사람들과 소식을 주고받거나 필요한 정보를 손쉽게 얻기 위하여 필요합니다. ㉠, ㉡, ㉢, ㉣는 이동 수단이 필요한 경우입니다.
- 13 ㉢, ㉣는 물 위에서 이용한 옛날의 이동 수단입니다.
- 14 ㉢는 이동 수단의 발달로 변화된 생활 모습입니다.
- 15 인터넷에 접속할 때 사용하는 아이디와 비밀번호 대신 지문이나 눈동자를 인식하는 장치를 개발하면 개인 정보를 다른 사람이 알게 되는 것을 막을 수 있습니다.
- 16 ㉠ 논밭이 넓게 펼쳐진 곳은 사람이 많이 모이는 중심지가 아닙니다.
- 17 버스 터미널, 기차역, 버스 정류장 등은 이동하기 위해 많은 사람들이 모이는 교통 중심지입니다.
- 18 노선도를 통해 역의 이름, 어느 역에서 어느 역으로 연결되어 있는지, 가야 할 역까지 몇 정거장이 남았는지, 어디에서 갈아타야 하는지 등을 알 수 있습니다.
- 19 미래의 중심지는 자연환경도 생각해야 합니다.
- 20 지하철역이 생기면 사람들이 쉽게 시장에 올 수 있게 되어 장사가 더 잘될 것입니다.